



T.C. Ölçme, Seçme ve Yerleştirme Merkezi

**YÜKSEKÖĞRETİM KURUMLARI SINAVI  
TEMEL YETERLİLİK TESTİ (TYT)**

**15 HAZİRAN 2019 CUMARTESİ**

*Bu testlerin her hakkı saklıdır. Hangi amaçla olursa olsun, testlerin tamamının veya bir kısmının Merkezimizin yazılı izni olmadan kopya edilmesi, fotoğrafının çekilmesi, herhangi bir yolla çoğaltılması, yayımlanması ya da kullanılması yasaktır. Bu yasağa uymayanlar gerekli cezai sorumluluğu ve testlerin hazırlanmasındaki mali külfeti peşinen kabullenmiş sayılır.*

## DİKKAT!

Din Kültürü ve Ahlak Bilgisi dersini yasal olarak almak zorunda olan adaylar ve İmam Hatip Okulları öğrencileri/mezunları, Sosyal Bilimler Testi'nin ilk 20 sorusunu cevaplamakla yükümlüdür. Bu adaylar, bu testin 21-25. sorularını cevaplamayacaklardır. Bu adaylar, bu testin 21-25. sorularında işaretleme yapmış olsalar bile bu cevapları değerlendirmeye alınmayacaktır.

Din Kültürü ve Ahlak Bilgisi dersini yasal olarak almak zorunda olmayan veya farklı müfredat ile alan adaylar, Sosyal Bilimler Testi'nin 16-20. sorularını cevaplamadan 21-25. sorularını cevaplayacaklardır. Bu adaylar, bu testin 16-20. sorularında işaretleme yapmış olsalar bile bu cevapları değerlendirmeye alınmayacaktır.

## AÇIKLAMA

1. Bu kitapçıkta toplam **125 soru** bulunmaktadır.  
Türkçe Testi: 40 soru  
Sosyal Bilimler Testi: 25 soru  
Temel Matematik Testi: 40 soru  
Fen Bilimleri Testi: 20 soru
2. Bu sınav için verilen cevaplama süresi **135 dakikadır (2 saat, 15 dakika)**.
3. **Bu testler puanlanırken, her testteki doğru cevaplarınızın sayısından yanlış cevaplarınızın sayısının dörtte biri çıkarılacak ve kalan sayı o bölümle ilgili ham puanınız olacaktır.**
4. Kitapçığın sayfalarındaki boş yerleri müsvedde için kullanabilirsiniz.
5. Cevaplamaya, istediğiniz sorudan başlayabilirsiniz. Bir soru ile ilgili cevabınızı, cevap kâğıdında o soru için ayrılmış olan yere işaretlemeyi unutmayınız.
6. Bu kitapçıkta yer alan her sorunun sadece bir doğru cevabı vardır. Cevap kâğıdında bir soru için birden çok cevap yeri işaretlenmişse o soru yanlış cevaplanmış sayılacaktır. İşaretlediğiniz bir cevabı değiştirmek istediğinizde, silme işlemini çok iyi yapmanız gerektiğini unutmayınız.
7. Sınavda uyulacak kurallar bu kitapçığın arka kapağında belirtilmiştir.

1. Bu testte 40 soru vardır.

2. Cevaplarınızı, cevap kâğıdının Türkçe Testi için ayrılan kısmına işaretleyiniz.

1. Kimileri robotları insanlığın sonunu getirecek bir tehdit<sup>I</sup> (tehlikeli bir durum) olarak görüyor, kimileri de insanları çalışmaktan kurtaracak<sup>II</sup> (alıkoyacak) bir yardımcı olarak. Suya sabuna dokunmayan<sup>III</sup> (sakıncalı konularla ilgilenmeyen), evcil hayvan benzeri robotlar hâlihazırda<sup>IV</sup> (şu anda) satılıyor. Bu robotlar etrafındaki nesnelerin ne olduğunu anlıyor<sup>V</sup> (kavıyor), yüksekte düşmemeyi başarıyor, komutlara cevap veriyor hatta oyunlar oynayabiliyor.

**Bu parçada numaralanmış sözlerden hangisinin anlamı parantez ( ) içinde verilen açıklamayla uyusmamaktadır?**

- A) I      B) II      C) III      D) IV      E) V

2. Kemalettin Tuğcu bizlere yoksulluğu, yaşama savaşımayı, acıyı, yardımlaşmayı ve paylaşmayı öğretti. Kahramanları hiç yüzüstü, umarsız bırakmadı. Eserleriyle Tuğcu okurlarına bir bakıma acı aşısı yaptı.

**Bu parçada altı çizili sözle asıl anlatılmak istenen aşağıdakilerden hangisidir?**

- A) Kitaplarıyla acılara, zorluklara göğüs germe becerisi kazandırmak  
B) Yaşanan acıların okurla paylaşarak azalmasını sağlamak  
C) Odağına acıyı alarak kalemini edebî yönden güçlendirmek  
D) Acıyla yoğrulmuş hayatların kendi yönünü bulacağını göstermek  
E) Toplumun yaşadığı acıları yalın hâliyle eserlerine aktarabilmek

3. Arka arkaya ses getiren filmler çekmiş, bunların arasına önemli bir su altı belgeseli ekleyerek bu alanda da ustalığını göstermişti. Herkes yeni çalışmalarını merakla beklerken o, uzunca bir süre sessizliğe gömülmüş; röportaj tekliflerini bile geri çevirmişti. Geçen hafta ortak bir dostumuzdan yepyeni bir belgesel çekimi için hazırlıklara başladığını işittim. Meğer inziva süreci, aslında yeni projeleri için kuluçka dönemiymiş.

**Bu cümledeki altı çizili sözü anlamca karşılayabilecek bir kullanım aşağıdakilerin hangisinde vardır?**

- A) Toleranssız ve karamsar mizaçlı olduğu için her şeye siyaha yakın bir grilikte yaklaşmaktan keyif alırdı.  
B) Yaşanan olaylara daima aynı pencereden baktığı için hiçbir zaman farklı bir şey göremeyecekti.  
C) Yaşadığı hayal kırıklıkları sonunda, kabuğuna çekilerek hayatındaki "keşke"lerin muhasebesini yapmaya başladı.  
D) Yeni tanıştığı insanlarla iletişim kurarken sergilediği içine kapanık tavır, muhataplarını oldukça rahatsız ediyordu.  
E) Sabit fikirli ve ben merkezli bir söylem; tek notayla bestelenen, duraksız bir musiki tadı verir dinleyicilerine.

4. I. Uyku esnasında solunum sıklığının ve kalp atış hızının düşmesi, vücuda pompalanan kan basıncını azalttığından uykudayken daha fazla üşürüz.  
II. Özellikle iki üç aylık bebeklerde, uyurken değişen vücut sıcaklığına bağlı olarak ortaya çıkan ani ölümler, günümüzde yaygın olarak görülmektedir.

**Yukarıda verilen II numaralı cümleyle ilgili olarak aşağıdakilerden hangisi söylenebilir?**

- A) I. cümlede ifade edilen konuyla çelişen farklı bir durumdan söz edilmektedir.  
B) I. cümlede anlatılan durumun sebep olduğu bir olumsuzluktan bahsedilmektedir.  
C) I. cümledeki olgunun, çocukları neden daha fazla etkilediği açıklanmaktadır.  
D) I. cümlede belirtilen olgunun her bireyde gerçekleşmediği örneklenmektedir.  
E) I. cümlede değinilen düşüncenin bilimsel olarak kanıtlandığı gösterilmektedir.
5. Çocuk, aklının doğal işleyişi sonucu her an ortaya çıkan tuhaf sorulardan birine yanıt bulma amacıyla gerçekleştirdiği her samimi girişim sayesinde, o amacın sonucuyla kıyaslanamayacak oranda kalıcı kazanımlar edinir.

**Bu cümlede çocuklarla ilgili olarak asıl anlatılmak istenen aşağıdakilerden hangisidir?**

- A) Tuhaf sorular sorma davranışlarının çocuklarda istemsiz biçimde gerçekleştiği  
B) Merak ettikleri konunun iç yüzünü öğrendikleri sürece bilgi birikimlerinin arttığı  
C) Kendi hâllerine bırakıldıklarında tuhaf sorular sorma alışkanlıklarının sona erdiği  
D) Cevabını samimi biçimde merak ettikleri soruların yetişkinlerce cevaplandırılması gerektiği  
E) Sorularına cevap arayışlarının gelişimleri üzerinde cevaplardan daha etkili olduğu

6. I. Pek çoğumuz tekstil ürünlerinin sadece koyun yününden elde edildiğini düşünürüz.  
II. Keçilerin ve develerin de lifleri bükülerek iplik hâline getirilir ve tekstil endüstrisinde kullanılır.

**Bu iki cümlede ifade edilenlerin anlamca doğru bir biçimde birleştirilmiş hâli aşağıdakilerden hangisidir?**

- A) Keçi ve deve liflerinden iplik üretilip tekstil sanayisinde kullanılmasına rağmen pek çoğumuz tekstil ürünlerinde yalnızca koyun yünü kullanıldığını sanıyoruz.  
B) Keçilerin ve develerin liflerinin iplik malzemesi olarak tekstil sanayisinde çok az tercih edilmesi nedeniyle genellikle yünün sadece koyundan üretildiğini düşünüyoruz.  
C) Yaygın olarak yünün yalnızca koyundan üretildiğini düşünsek de keçiler ve develerden elde edilen liflerin geçmişten bugüne tekstil ürünlerinde kullanıldığını biliyoruz.  
D) Tekstil sanayisinde keçi ve develerden elde edilen yünler de kullanılmasına karşın birçoğumuz iplik gibi ürünlerin yalnızca koyundan üretildiğini zannediyoruz.  
E) Birçoğumuz, keçilerin ve develerin liflerinin de iplik malzemesi olarak tekstil endüstrisinde kullanıldığını göz ardı ediyor ve yünün yalnızca koyundan üretildiğine inanıyoruz.

7. Tüm hayvanların vücudu dokulardan ve dokuların birleşmesiyle meydana gelen organlardan oluşur. Dokular vücudun çeşitli kısımlarını ve organlarını oluştururken küçücük, kıvrımlı ve karmaşık yapılara dönüşür. Epitel hücreler bu yapıların oluşmasında temel bir işleve sahiptir. Bu hücreler sıkı bir şekilde istiflenerek derinin, kan damarlarının ve organların dış tabakalarını meydana getirir.

**Bu parçada aşağıdaki ses olaylarından hangisi yoktur?**

- A) Ünsüz yumuşaması      B) Ünsüz benzeşmesi  
C) Ünlü düşmesi      D) Ünsüz düşmesi  
E) Ünlü daralması

8. Dede Korkut anlatılarının <sup>I</sup> üçüncü hikâyesi olan Bey Böyrek, neredeyse tüm Türk halklarının <sup>II</sup> sözlü edebiyatında yer almaktadır. Bu anlatı, Oğuz boylarının <sup>III</sup> arasında Bamsı Beyrek, Altay Türklerinde ise Alıp Manaş, Başkurt ve Tatarlarda Alıpmenşen olarak bilinir. Bu destanın birbirine yakın biçimlerinin <sup>IV</sup> bu kadar geniş bir coğrafyada yaşaması, bu toplulukların ortak bir düşünce tarihine sahip olduklarının <sup>V</sup> güzel bir göstergesidir.

**Bu parçada numaralanmış sözcüklerin hangisi "üçüncü çoğul kişi iyelik eki" almıştır?**

- A) I B) II C) III D) IV E) V

9. Oyuncular, herhangi bir rolü canlandığında izleyicilerinden gözleri <sup>I</sup> önüne serilen sahneleri <sup>II</sup> ciddiye almalarını beklerler. Kendilerinden, izledikleri <sup>III</sup> karakterlerin sahipmiş gibi görünen niteliklere gerçekten sahip olduklarına, yapmakta oldukları <sup>IV</sup> işin yol açacağı sonuçların gerçekleşeceğine ve genelde her şeyin görüldüğü gibi olduğuna inanmaları <sup>V</sup> istenir.

**Bu parçada numaralanmış sözcüklerin hangisi, "belirtme durumu eki" almıştır?**

- A) I B) II C) III D) IV E) V

10. Daima, bu şehre ilk giren ve onu yeni baştan bir Türk şehri olarak kuran dedelerimizin yaşayışlarındaki halis tarafa hayran oldum.

**Bu cümlelerin yer tamlayıcısında (dolaylı tümlecinde) aşağıdakilerden hangisi yoktur?**

- A) İsim-fiil B) Sıfat-fiil C) Edat  
D) Bağlaç E) Zarf-fiil

11. Modern şehir hayatının gün içerisinde onlarca kişiyle iletişime geçmeyi zorunlu kılan ve kişileri binlerce mesaja maruz bırakan yapısı, insana daha önce deneyimlemediği bir uyum sürecini dayatıyor.

**Bu cümledeki öğelerin doğru sıralanışı, aşağıdakilerin hangisinde verilmiştir?**

- A) Özne - zarf tümleci - belirtisiz nesne - yüklem  
B) Belirtisiz nesne - özne - belirtili nesne - yüklem  
C) Zarf tümleci - yer tamlayıcısı (dolaylı tümleç) - özne - yüklem  
D) Özne - yer tamlayıcısı (dolaylı tümleç) - belirtili nesne - yüklem  
E) Belirtili nesne - zarf tümleci - özne - yüklem

12. Meslek gruplarının bazıları üyelerinin davranışlarından sorumlu tutulur. Anneliğin de kimi açılardan bir meslek grubu sayılmasına rağmen onlardan birinin kötü davranışı diğerlerine duyulan saygıyı pek etkilemez. Ancak iyi örgütlenmiş meslek gruplarının üyeleri, insanların gözünde birbirleriyle öyle özdeşleşmiştir ki mesleği icra eden birinin tutumu tüm meslektaşların itibarını etkiler.

**Bu parçada numaralanmış sözcüklerden hangisi zamir değildir?**

- A) I B) II C) III D) IV E) V

13. Azıcık esinti olmasa insanı eritecek kadar sıcak bir İstanbul gününde şehrimin yağmurlarını özleyerek Tophane-i Amire'deki Büyük Ustalar Sergisi'ne doğru yol alıyorum. Rönesans'ın üç büyüğü Leonardo, Michelangelo ve Raphael... Nasıl olmuş da üçü aynı zamanda, aynı coğrafyada yetişmiş?

**Bu parçada numaralanmış sözcüklerin türü aşağıdakilerin hangisinde sırasıyla doğru olarak verilmiştir?**

- | I        | II     | III   | IV    |
|----------|--------|-------|-------|
| A) Zarf  | Edat   | Sıfat | Zamir |
| B) Sıfat | Edat   | İsim  | Zarf  |
| C) Sıfat | Zarf   | Zamir | Edat  |
| D) Zarf  | Bağlaç | İsim  | Sıfat |
| E) İsim  | Bağlaç | Zamir | Zarf  |

14. (I) İnsan omurgasında bulunan omurların arasındaki diskler, yer çekiminin etkisiyle sürekli baskı altındadır. (II) Uzayda diskler üzerinde böyle bir baskı oluşmaz. (III) Bu durum, disklerin arasının biraz daha açılmasına sebep olur. (IV) Sonuç olarak uzayda astronotların boyunun uzadığı görülür. (V) Astronotların sırt ağrısı çekmelerinin nedeni de budur.

**Bu parçada numaralanmış cümlelerle ilgili olarak aşağıdakilerden hangisi yanlıştır?**

- A) I. cümlede sıfat-fiil kullanılmıştır.  
B) II. cümlede edat bulunmaktadır.  
C) III. cümlede isim-fiil vardır.  
D) IV. cümlede zarf-fiil kullanılmıştır.  
E) V. cümlede bağlaç bulunmaktadır.

15. **Aşağıdaki cümlelerde yer alan birleşik fillerden hangisinin yazımı yanlıştır?**

- A) Bunca yıllık tanışıklığımıza rağmen benden şüphelendiğiniz için teessüf ederim.  
B) Durumu üst makama arzederiz, verilecek cevaba göre de ne yapacağımızı kararlaştırırız.  
C) Bu saatten sonra gelse de gelmese de hiç fark etmez; her şey için çok geç artık.  
D) Antalya'da etkili olan yağış, seraları bir anda su altında bıraktı ve bütün mahsulü mahvetti.  
E) O her istediğini yapacak, istediği gibi at koşturacak; biz de öylece oturup seyir mi edeceğiz?

16. Aşağıdaki cümlelerin hangisinde ifadenin okunuşuna uygun bir ek getirilmemesinden kaynaklanan yazım yanlışı vardır?

- A) Doktora araştırmasını TÜBİTAK'ın bursuyla yürütmüştü.
- B) Saat 16.30'da başlayan maç TRT'den naklen yayınlanıyordu.
- C) Öğrenciliği zamanında Zonguldak'ın Ereğli ilçesindeki KYK'da kalmıştı.
- D) Kulüplerin 5. olağan toplantısı TFF'nin tesislerinde gerçekleştirildi.
- E) Bir yaz günü saat 19.00'da TBMM'nin önünde buluşup yola çıkmışlardı.

17. Yeni aldığı ve çok sevdiği ayakkabısının bir teki futbol oynarken yırtılan çocuk ( ) ayakkabıcıya ( ) yeni ayakkabı bakmaya gitti. Ayakkabının üzerindeki fiyatı okudu. Bir an üzüldüğünü belli ederek vitrinden uzaklaştı. Durumu gören ayakkabıcı:

- Baktığın model sana çok yakışır ( ) denemek ister misin?
- Çocuk başını sallayıp:
- Üzerindeki fiyata göre almam mümkün değil ki ( ) Zaten bir tekini alacağım.
- Dükkân sahibi:
- Amma yaptın ha ( )

**Bu parçada parantezle ( ) belirtilen yerlere, aşağıdaki noktalama işaretlerinden hangisi sırasıyla getirilmelidir?**

- A) (;) (,) (,) (!) (!..)
- B) (,) (;) (;) (...)
- C) (;) (,) (,) (...)
- D) (,) (;) (,) (!) (.)
- E) (;) (,) (;) (,) (!..)

18. XX. yüzyılın son çeyreğinde plansız iç göçler sebebiyle kalabalıklaşan İstanbul; benzer kaderi yaşayan Ankara, İzmir, Bursa gibi şehirlere göre daha çok sorunla baş başa kalmıştır.

**Aşağıdakilerin hangisinde noktalı virgül (;) bu cümledeki işleviyle kullanılmıştır?**

- A) Yazar değil, eleştirmenler; metinler değil, yorumlar yani bakış açıları değiştiği için edebiyat eserlerinin anlamı daima zenginleşmektedir.
- B) Kopuk dizelerin, anlatı parçacıklarının, çizimin sınırlarında dolaşan bu melez metin; onun yaşam haritasına göre farklılıklar gösterir.
- C) Türkiye, İran, Rusya; Ankara, Tahran, Moskova isimlerinin birbirleriyle münasebetleri açık seçik ortadadır.
- D) Tokat'ta yetiştirilen ürünlerin başında domates, biber, fasulye, patates; kiraz, vişne, elma, erik gelir.
- E) Lale, sümbül ve karanfil motifleriyle ebru sanatına farklı bir yorum getirmiş; bu sanatın genç kuşaklarca tanınmasına katkıda bulunmuştur.

19. Bir noktadan sonra, hayal ettiğim bu dünya benim elimden çıkar ve kafamın içinde yaşadığım şehirden daha gerçek olur. O zaman bütün insanlar ve sokaklar, eşyalar ve binalar sanki hep birlikte aralarında konuşmaya, benim önceden hissedemediğim ilişkiler kurmaya; sanki benim hayalimde ve kitaplarımda değil kendi kendilerine yaşamaya başlarlar. İğneyle kuyu kazar gibi sabırla hayal ederek kurduğum bu âlem, bana o zaman her şeyden daha gerçekmiş gibi gelir.

**Bu parçanın anlatımıyla ilgili aşağıdakilerden hangisi söylenemez?**

- A) Kişileştirmeye yer verilmiştir.
- B) Birinci kişili anlatım kullanılmıştır.
- C) Karşılaştırmadan yararlanılmıştır.
- D) Benzetme yapılmıştır.
- E) Örnekleme başvurulmuştur.

20. (I) Max Weber, meşhur *Protestan Ahlakı ve Kapitalizmin Ruhu* adlı eserinde Protestan ahlak anlayışının kapitalizmin doğuşunda oynadığı rolü ortaya koymaya çalışmıştır. (II) Weber'in iktisadi zihniyetle dinî inançlar arasında kurduğu bu ilişki hâlâ ilgiyle takip edilmektedir. (III) Siyaset alanında Weber, çağdaş siyaset biliminin temel konularından olan iktidar, egemenlik, otorite ve meşruiyet gibi olgularla ilgilenmiş, bürokrasi ve siyaset arasındaki ilişkilere dikkat çekmiştir. (IV) Siyasal iktidarın meşruluğunun temellerini bir model çerçevesinde açıklamaya çalışmıştır. (V) Ona göre siyaset kişinin diğer kişiler üzerinde egemenlik kurmasıdır. (VI) Söz konusu egemenlik farklı olabilmekte ve meşrulaştırılırken farklı argümanlara dayanabilmektedir.

**Bu parça iki paragrafa ayrılmak istense ikinci paragraf numaralanmış cümlelerin hangisiyle başlar?**

- A) II      B) III      C) IV      D) V      E) VI

21. (I) Geçmişten bugüne uçaklara yıldırımlar kadar türbülanslar da ciddi hasarlar verir. (II) Uçaklar genellikle tırmanır veya alçalırken yıldırım çarpmasına maruz kalırlar. (III) Yıldırım ilk olarak uçağın burun veya kanat ucu gibi sivri bir kısmına temas eder. (IV) Temasın gerçekleştiği noktada havadaki moleküllerin iyonlaşması nedeniyle oluşan bir parlama görülür. (V) Ardından elektrik yüklü parçacıklar iletken dış yüzey boyunca ilerler ve uçağın bütünlüğüne zarar vermeden kuyruk gibi bir başka sivri kısımdan gökyüzüne dağılır.

**Bu parçadaki numaralanmış cümlelerden hangisi düşüncenin akışını bozmaktadır?**

- A) I      B) II      C) III      D) IV      E) V

22. ----. Bütün yapıtlar kendilerinden önceki yapıtlarla yapılmış bir konuşmanın izlerini taşır. Dostoyevski *İnsancıklar*'da Gogol'la tartışır. Kafka, *Dönüşüm*'de Dostoyevski'nin elli yıl önce sorduğu soruyu, "İnsan mıyım, yoksa böcek mi?" sorusuyla cevaplar. Oğuz Atay romanlarını yaralı Don Kişotların, yeraltında yaşayanların, hamam böcekleri ve metamorfozların yankılandığı bir vadede yazar.

**Bu parçanın başına düşüncenin akışına göre aşağıdakilerden hangisi getirilmelidir?**

- A) Hiçbir yapıt boşluğa doğmaz; akan nehre sonradan eklenir  
B) Hemen her anlatı çoktan kabul edilmiş doğruların üzerinde yükselir  
C) Her yazar kendinden önce düşünülmüş metinlerin ilmeğini çözer  
D) Her yapıt, olay örgüsü açısından biricik olma idealiyle yola çıkar  
E) Edebî yapıtlar, yazarının iç hesaplaşmalarının yansıdığı bir aynadır



23. Günümüzde, hizmet sektöründen iş dünyasına, çocuk yetiştirmeden sanat üretimine kadar her alanda tatmine, sorunsuz biçimde varabilme yollarının arayışı içindeyiz. Everest'e tırmananlar, maraton koşanlar, yoğun ve disiplinli bir çalışmanın sonunda alanlarında ustalaşanlar ise yolun sonunda hissettikleri mutluluk kadar, yol boyunca yaşadıkları belirsizliklerden ve aştıkları engellerden de coşkuyla söz ederler. Belki de ilk bakışta çelişkili gibi görünen bu durum, çoğu zaman gayet iyi giden bir işte veya ilişkide, farkında olmadan pürüzler yaratmamızı açıklayabilir.

**Bu parçada asıl anlatılmak istenen aşağıdakilerden hangisidir?**

- A) Sonucu değerli kılan, süreç içindeki öngörülemeden güçlüklerin üstesinden gelmektir.
- B) İsteklere kolayca ve fazla emek harcamadan ulaşmak, mutluluğun ön koşuludur.
- C) Bilinç dışı dürtülerle, ortada sebep yokken sorun çıkarmak, başarıyı tetikler.
- D) Sonuç kadar sürece odaklanarak engelleri aşmak da doyuma ulaşmada önemlidir.
- E) Çeşitli düzeylerde güçlüklerle mücadele etmek, sorun çözmeye gücünü artırır.

24. Stephen Fears'ın 2006 yapımı etkileyici filmi *Kraliçe*, Prenses Charles'tan boşandıktan sonra tüm İngiliz aristokrasisine sırtını dönen Prenses Diana'nın ölümünü anlatıyor. Filmin esas odağı, Prenses Diana'nın şaibeli bir trafik kazasında hayatını kaybetmesinden hemen sonra kraliyet ailesinde yaşananlar. Pek çok yazılı ve görsel malzemeyle desteklenen bir belgesel gibi çekilmesine rağmen film, senaryosu fazlasıyla içeriden yazıldığı gerekçesiyle eleştirilmiştir. Bununla birlikte film, tipik İngiliz mizahı ile bu mizahla atbaşı giden hüznün duygusunu her karesinde birleştirmeyi başarmıştır.

**Bu parçada söz edilen filmin senaryosunun eleştirilme nedeni aşağıdakilerden hangisidir?**

- A) Prenses Diana'nın özel hayatıyla ilgili sırlara yer vermesi
- B) Üzücü bir olayı sinemaya aktarırken mizahi öğeler kullanması
- C) Olayları daha çok kraliyet ailesinin bakış açısıyla sunması
- D) Hayatını belgeselleştirerek Prenses Diana'yı idolleştirmesi
- E) İçeriğinin kazanın hemen ertesinde olanlarla sınırlı kalması

25. Yazı, çoğu zaman içimizde taşıdığımız olağanüstü duygu ve düşüncelerin soluk ve eksik yansımasından başka bir şey değildir. Bu yansıma, karmaşık ve çok katmanlı bir bütünden kopup gelen parçacıklardır. Yazının meselesi, yazarın esinlendiği o karmaşık ve çok katmanlı bütün, orada öylece durur. Ancak yazarın çaresizliği bu bütünden sadece bir parçayla yetinmek zorunda olmaktır.

**Bu parçaya göre yazarın çaresizliği aşağıdakilerden hangisidir?**

- A) Coşkuyla yazıya döktüğü deneyimlerinin pek az kişi tarafından takdir görmesi
- B) Herkese hitap etmeyi başardığında bile yazdıklarının kalıcılıktan yoksun olması
- C) Yaşantı ve deneyimlerinin ancak sınırlı bir bölümünü yazdıklarına aktarabilmesi
- D) Yapıtın anlamının ve değerinin, kendisi kadar okurlarına da bağlı olması
- E) Anlatabileceklerini kısıtlayan sansür ve dış kontrol mekanizmalarının olması

26. Coğrafi keşiflerle birlikte gerçekleşen sömürgecilik faaliyetleri sırasında İspanyolları, yerliler karşısında farklı ve üstün kılan özelliklerden biri de, şövalye romanlarına tutkulu yaklaşımlarıdır. Bu romanlar, gerek yeni kıtaya çok uygun düşen büyümlü ve efsanevi nitelikleriyle gerekse ölümüne savaş ve buna bağlı bir şeref anlayışına yaptıkları göndermelerle, sömürgeci mantığı etkilemiş ve beslemiştir.

**Bu parçada asıl anlatılmak istenen aşağıdakilerden hangisidir?**

- A) Şövalye romanlarında, ölümüne savaşmanın şerefli bir davranış olarak yüceltildiği
- B) Şövalye romanlarının sömüren-sömürülen ilişkisinin uzağında okunması gerektiği
- C) Sömürgecilik faaliyetlerinin şövalye romanlarının içeriğini belirlediği
- D) Sömürülen toplumların gizemli ritüellerinin şövalye romanlarında karşılık bulunduğu
- E) Sömürgeci kimliğin inşasında şövalye romanlarının pay sahibi olduğu

27. Her yıl, milyonlarca ton plastik üretiliyor. Diğer yandan da plastik su şişeleri gibi geri dönüşümü sağlanamayan büyük miktarda atığın denizleri doldurmaması için çözüm arayışı sürüyor. Bu çözümlerden en umut verici olanı atıkları veya plastikleri parçalayan organizmalar. Ancak daha basit çözümler de var. Yakın zamanda bir araştırmacı, plastiğin aksine kalıcı olmayan ve kullanıldıktan sonra biyolojik olarak parçalanabilen bir malzemeden şişe üretme fikrini ortaya attı.

**Bu parçadan hareketle aşağıdakilerden hangisi söylenebilir?**

- A) Biyolojik olarak parçalanabilen şişe, şimdilik tasarım aşamasında olan sonuç odaklı çalışmalardan biridir.
- B) Geri dönüşüm sorununun ortadan kaldırılmasında parçalanabilen şişe fikriyle önemli bir adım atılmış oldu.
- C) Plastiğin yerine alternatif malzeme üretme fikrinin ortaya atılması, kısa vadede bir çözüm olarak görünmüyor.
- D) Geri dönüşümü sağlanamayan plastik ve benzeri maddeler doğal hayata kalıcı hasarlar vermektedir.
- E) Plastiğin doğada dönüşüme uğramaması, ilerleyen zamanlarda ciddi sağlık sorunlarına yol açacaktır.

28. • Zaman zaman televizyonlarda toplu balina ölümlerine ilişkin haberler, karaya vurmuş balina görüntüleriyle karşımıza çıkar. Araştırmalar bu ölümlere okyanusların endüstriyel ve kimyasal atıklarla kirlenmesi, suların bulanıklaşması ve yanlış avlanmalar gibi etkenlerin sebep olduğunu gösterir.
- Balinalar, okyanusta yüzerken kafalarının ön kısmından gönderilen elektromanyetik dalgalarla yönlerini bulurlar. Bu özelliklerinden hem bulanık sularda yüzerken hem de göç ederken yararlanırlar. Ancak zaman zaman dünyanın manyetik alanının değişmesi ya da balinalardaki yön bulma sisteminin hastalık sonucu bozulması nedeniyle yönlerini tayin etmekte sorun yaşarlar ve karaya vururlar.

**Bu iki parçayla ilgili olarak aşağıdakilerden hangisi söylenebilir?**

- A) Farklı görüşlerin aslında birbirini desteklediğini göstermektedirler.
- B) İki farklı konuya ilişkin ortak bir görüş olduğunu vurgulamaktadırlar.
- C) Aynı olguyu farklı yönleriyle değerlendirip ele almaktadırlar.
- D) Aynı düşüncüyü pekiştirmeye yönelik farklı örnekler sunmaktadırlar.
- E) Farklı üsluplar kullansalar da konuyu benzer nedenlerle açıklamaktadırlar.

29. Pek çok kavramı toparlarken dağıtıyoruz ister istemez. Ama aşk konusunda bu tür tanımlara kalkışınca işler daha bir sarpa sarıyor. Öyle ki "günümüzde aşk" deyince gülmek geliyor içimizden. Neden? Galiba yıllar yılı "tek tip" bir aşk düşündüğümüzden. Aşkın mekânını, zamanını, onu yaşayanların sınıfsal özelliklerini hesaba katmadan "aşk"ı yücelttiğimizden. Eski Yunan'da aşk, Orta Çağ'da aşk, Haliç Kıyısı'nda aşk, Boğaz mehtabında aşk, kotrada aşk, grevde aşk... Bu ilişkiler aynı aşkta birleştirilebilir mi? İlişkiyi yaşayanların beklentileri de aşkı biçimlendirmez mi?

**Bu parçanın yazarının aşağıdakilerden hangisini söylemesi beklenemez?**

- A) Aşk, bireysel ve toplumsal yaşanmışlıklardan soyutlanamaz bir olgudur.
- B) Modern insan aşka yönelik tek tip bir bakış açısına sahiptir.
- C) Her dönem ve mekân kendine özgü, bağımsız bir aşk algısı yaratır.
- D) Aşkı sürdürülebilir kılmamanın yolu, onu idealize etmekten geçer.
- E) Aşk, tek bir değişkene indirgenerek tanımlanabilecek bir kavram değildir.

30. 1928-1992 yılları arasında yaşayan Philip K. Dick, bilim kurgu edebiyatının en beğenilen yazarlarından biridir. İlk hikâye ve romanlarından başlayarak tüm eserlerinde, gerçeklik ve insanı insan yapan özellikleri birbirine bağlı iki tema olarak ele alır. Bu temaları başarıyla işlediği eserlerinden biri, 1968 yılında kaleme aldığı *Androidler Elektrikli Koyun Düşler mi?* adlı romanıdır. Romanın ana karakteri Rick Deckard, Mars'tan kaçan altı androidi yakalamakla görevlidir. Ancak bu görevi sırasında, insanla robot arasındaki sınırın hiç de kesin olmadığını görür. Böylece eser bir yandan insan benzeri robotlar ile gerçek insanlar arasındaki farkı sorgularken diğer yandan gerçeklik algısı üzerine düşündürmektedir. Dick'in bu romanı, tüm zamanların en iyi bilim kurgu filmlerinden biri olarak kabul edilen *Bıçak Sırtı* filmine de kaynaklık etmiştir.

**Bu parçada Philip K. Dick ile ilgili olarak aşağıdakilerden hangisi söylenemez?**

- A) Belirli bir alandaki çalışmalarının takdir edildiği
- B) Farklı türdeki eserlerinde benzer konular üzerinde durduğu
- C) Eserlerinin edebiyat dünyası dışında da ilgi gördüğü
- D) Gerçeğin ne kadar gerçek olduğu konusunu sorguladığı
- E) Romanlarında belirli bir karakterin maceralarını anlattığı

31. Psikolojide "hatırlama efekti" olarak adlandırılan daha eski anıların geri dönüşü, tam bir muammadır. Anıların en eski olandan başlayarak hatırlanması, "unutmanın ilk temel yasası" ile tezatlık göstermektedir. Bu yasaya göre bir olayın üzerinden ne kadar uzun zaman geçmişse olayın hatırlanma ihtimali de o kadar azdır. Ancak hatırlama efektinde durum tam tersidir. Kişi, yaşı ilerledikçe daha eski anılarını hatırlar. Bu anıların ortaya çıkması için neden ihtiyarlığı beklediği ise bilimin araştırdığı başka bir muammadır. Kırklarında, ellilerindeki insanların da bunları kolaylıkla anımsamaları gerekmez mi? Neden bu anılar, bellek gerçekten yaşlanınca gösteriyor kendini? Sanki bunca yıl boyunca yayın yasağı varmış da yasağın kalkması için belli bir süre geçmesi gerekiyormuş gibi...

**Bu parçadan hareketle aşağıdakilerden hangisine ulaşılamaz?**

- A) Hatırlama efektinde, anılar genellikle en eski olandan daha yeni olana doğru hatırlanır.
- B) Unutmanın ilk temel yasasına göre üzerinden uzun zaman geçen olayların hatırlanması zordur.
- C) Eski anıların bellek yaşlandıktan sonra hatırlanması, bilimsel açıdan bir merak konusudur.
- D) Bellekte yer alan ilk anıların bellek yaşlanmadan ortaya çıkması, dış etkenlere bağlıdır.
- E) Hatırlama efektinin ortaya çıkması ancak ihtiyarlıkta, belleğin yaşlanmasıyla mümkündür.

32. Günümüzde büyük miktarda veri üretilerek bunlar sürekli depolanıyor. Dijital verilerin saklandığı diskler "sunucu parkı" adı verilen devasa tesislerde tutuluyor. Bu bilgilerin korunması içinse ciddi bir kaynak harcanması gerekiyor. Bilim insanları çevre dostu olmayan bu veri saklama yöntemine yeşil bir alternatif sunuyor: Bitkileri biyolojik bir sabit disk olarak kullanmak! Tüm bilgileri bitkilerin DNA'sının içinde ikili kod olarak saklayabilmemize olanak tanıyan bu yöntem sayesinde kütüphaneler dolusu bilgi, tek bir ağaca aktarılabilir. Bu buluş, geliştirilmeye muhtaç olsa da aile fotoğrafımızı en sevdiğimiz kaktüsün içinde saklayabilecek veya bahçemizdeki ağaçtan müzik dinleyebilecek olma ihtimali gerçekten heyecan verici!

**Bu parçadan hareketle aşağıdakilerden hangisine ulaşamaz?**

- A) DNA'larda genetik bilgilerin yanı sıra farklı verilerin de depolanması mümkün görülmektedir.
- B) Veriler arttıkça bunların saklanması için gerekli olan alanların da artması beklenmektedir.
- C) Ağaçlarda bilgi saklanmasına yönelik çalışmaların geliştirilmesine ihtiyaç duyulmaktadır.
- D) Yeni bilgilerin üretilmesi, bunların depolanma sorununu da beraberinde getirmektedir.
- E) Kolay ulaşılabilirliği nedeniyle verilerin dijital ortamda saklanması tercih edilmektedir.

33. Öznel olmak kendi içine kapanmak, düşünceye dalmak, herkesten ve her şeyden ayrı olmak değildir. Aksine dışa doğru, başkalarına doğru bir çeşit yöneliştir. Bu yöneliştir ki benim dışımdakilere "benimdir" diyebilirim. Ancak gerçekten yaşadığım, içinde kendimi gördüğüm, bağlandığım bir şey benimdir. Çünkü beni benden başka olanla birleştiren bağı yalnız ben yaratabilirim.

**Aşağıdakilerden hangisi bu parçanın yazarının düşüncesini destekleyen bir örnek değildir?**

- A) İçerisinde bulunmadığım bir ordunun elde ettiği bir zaferle sevinebilirim yeter ki o, kendi fetihlerimin bir basamağı olsun.
- B) İnşa aşamasında hiçbir emeğimin olmadığı bir eve sahip olabilirim yeter ki o, içinde oturduğum bir ev olsun.
- C) Himalaya'nın doruğuna tırmanan adamın yaşadığı serüven ile böbürlenebilirim yeter ki o, kendi başarısını kanıtlamış olsun.
- D) Şurada duran kimsenin sahiplenmediği toprak benim olabilir yeter ki o, ellerimle işlediğim bir toprak olsun.
- E) Bir ülkenin uğradığı bozgunu iliklerimde duyabilirim yeter ki o, aramda bağlantılar kurduğum ülkede yaşanmış olsun.

## 34. Muhabir:

(I) ----

## Yönetmen:

— Sinema gerçek hayattan alınmış formlarla uğraşiyor, onları işliyor. Film yönetmeninin uğraşı, bana beyaz perdede yeni bir hayatın doğmasıyla bağlantılı olarak yaratma eylemini hatırlatıyor. Sinemanın bu yönünü diğer sanat dallarına göre daha olağanüstü buluyorum.

## Muhabir:

(II) ----

## Yönetmen:

— Aralarında bir bağlantı olduğu aşikâr çünkü filmlerimdeki üç karakter hayatlarındaki dönüm noktalarında analiz ediliyor. Kahramanların üçü de inançlarından vazgeçmiyor, kendilerine sadık kalıyorlar. Bu anlamda bu üç kahraman yani İvan, Rublev ve Kris bir bütün oluşturuyor.

**Bu diyalogda boş bırakılan yerlere aşağıdakilerden hangisi sırasıyla getirilmelidir?**

- A) I. Müzik ve resim çalışmalarınızı yarıda bırakıp sinemaya yönelmeniz nasıl karşılandı?  
II. Filmlerinizdeki üç oyuncunun benzer özelliklere sahip olmasıyla neyi amaçladınız?
- B) I. Sinemaya ilginiz ne zaman ve nasıl başladı, sinemanın yaşamınızdaki yeri nedir?  
II. Filmlerinizde erkek karakterlerin psikolojisine ağırlık vermenizden nedeni nedir?
- C) I. Sinemanın sizin için ifade ettiği anlamı biraz açar mısınız?  
II. Karakterlerinizi sinemaya aktarırken ilham aldığınız film karakterleri var mı?
- D) I. Sinemaya yönelerek film yapmaya başlama gerekçeniz neydi?  
II. Filmlerinizin üç kahramanı arasındaki ilişkinin niteliği hakkında neler söyleyebilirsiniz?
- E) I. Filmlerinizdeki hikâyelerin gerçekçi olmasını neye bağlıyorsunuz?  
II. İnsan yaşamının açmazlarını İvan, Rublev ve Kris karakterleri üzerinden verme fikri nasıl ortaya çıktı?

**35. - 36. soruları aşağıdaki parçaya göre cevaplayınız.**

*Makber* Türk şiirinin önemli örneklerinden biridir. Abdülhak Hamit bu şiiri eşinin ölümünün ardından, 1885 yılında yazmıştır. Eser, sevdiğinin ölümünü görmekle felakete uğramış bir insanın duygularını, okura büyük bir samimiyetle yaşatır. *Makber*'den kısa süre sonra, yıl bitmeden yazdığı *Ölü* adlı eserinde de konu ve ruh *Makber*'in aynısıdır. Ancak *Makber*'de başını bulutlara ve kayalara çarparak uçurum karanlıkları içinde şimşekler çaktıran yaralı kartal, burada geniş halkalar çevirerek ağır ağır süzülür. *Makber* bir feryattır. *Ölü*'de sükût ve düşünüş vardır. Sanki bu eserin mısraları düşünce hâline gelmiş gözyaşlarıdır.

**35. Bu parçadan hareketle *Makber* ile ilgili aşağıdakilerden hangisi söylenemez?**

- A) *Ölü* adlı şiir ile aynı yıl yazıldığı  
B) Okuyucuda duygusal karşılık bulduğu  
C) Kısa süre içinde kaleme alındığı  
D) Bir kaybın yarattığı acıyı işlediği  
E) Yazarın taşkın ruh hâlini yansıttığı

**36. Bu parçadan hareketle *Ölü* ile ilgili aşağıdakilerden hangisi söylenemez?**

- A) Yabancı bakışlardan saklanan bir keder olduğu  
B) Eksik kalmışlık karşısında bir isyan olduğu  
C) Kaynağı, düşünülerek bulunamayan bir acı olduğu  
D) Her hatırlandığında acı veren bir anı olduğu  
E) Zihnen kabullenilmiş bir üzüntü olduğu

37. - 38. soruları aşağıdaki parçaya göre cevaplayınız.

Çaylar farklı farklıdır, yaşamlarımız da... Kimi bol şekerli çay içer kimi az şekerli kimi de çayı şekerlessiz tercih eder. Erzurumlular ise çayı "kıtlama" içer. Kıtlama çay; dikdörtgen şeklinde, uzun ancak özel makaslarla kesilebilen sert şekerlerle içilir. Sert kesme şekerlerden çok küçük bir parçayı avurduna sıkıştırılan kişi, bu parçayı idareli kullanarak dört beş bardak çay içebilir. Çayı kıtlama içmek hem özel bir keyif verir hem de ekonomiktir. Şekerin pahalı olduğu, hatta bazen hiç bulunmadığı yıllardan kalan bir alışkanlık olan kıtlama, sınırlı imkânlarımızı sınırsız bir sürece yayma gayretine benziyor. Bu anlamda bazılarımız hayatını kıtlama tarzında, bazılarımız bol şekerli yaşıyor. Bol şekerli ama kısa bir ömür sürüp mutsuz olanlar da var, kıtlama ama uzun bir hayatı mutlu kılanlar da...

37. Bu parçadan hareketle aşağıdakilerden hangisine ulaşılabilir?

- A) İnsan, hayatını uzun ve mutlu kılmak için elindeki imkânları verimli kullanmaya çalışmalıdır.
- B) Hayatın nasıl yaşanacağı, çoğu zaman insanın kendi tercihi olmaktan öte bir durumdur.
- C) Hangi koşullarda yaşarsa yaşasın insan, hayata yüklediği anlamlarla geleceğine şekil verir.
- D) İnsanın sahip olduklarının farkına varması yaşamdan alabileceği hazzın sınırlarını belirler.
- E) İnsan sorunlardan uzak durabildiği oranda hayattan keyif alabilme becerisini kazanır.

38. Bu parçada kıtlama çay ile ilgili aşağıdakilerden hangisine değinilmemiştir?

- A) Uygulanma şekline
- B) Duygular üzerindeki etkisine
- C) Ortaya çıktığı dönemin koşullarına
- D) İnsan sağlığına olan etkisine
- E) Tercih edilme nedenine

39. - 40. soruları aşağıdaki parçaya göre cevaplayınız.

Bazı kavramlar, uzun süre sözlüklere ve akademik metinlere hapsedildikten sonra sebebi bilinmeksizin birdenbire, halkın diline düşme; basında, televizyonda, hatta hükümet demeçlerinde zikredilme talihini veya talihsizliğini yaşar. Fena hâlde felsefe kokan ve Yunancadaki köküyle akla Aristoteles'i getiren etik kelimesi, bugün tam da bu şekilde sahnenin ortasına yerleşmiş durumda. Yunancada bilgece bir eylem yolu arayışına karşılık gelen etik, felsefenin ayrılmaz bir parçasıdır. Descartes'la -yani özne sorununun merkezî önem taşıdığı modern dönem felsefesiyle- birlikte etik, ahlakla veya pratik akılla az çok eş anlamlı hâle gelmiştir. Etik, böylece ister bireysel ister kolektif olsun, bir öznenin veya özne grubunun eylemlerini ve bunların sonuçlarını evrensel yasaların terazisinde ölçen, yargılayan sistem anlamına kavuşmuştur. Bugünün popüler kültür ve siyaset endüstrisinde ise artık anlam enflasyonu nedeniyle milyonlarca sıfırla şişmiş bir kavrama dönüşmüştür. O kadar çok şey için kullanılıyor ki hemen hiçbir şey ifade etmiyor.

39. Bu parçada altı çizili sözle etikle ilgili olarak anlatılmak istenen aşağıdakilerden hangisidir?

- A) Düşünce tarihindeki yerini ve önemini koruyamadığı için eski popülerliğini yitirmiş bir terim olduğu
- B) Önemli bir felsefi terim olmaktan çıkıp gündelik anlamlar kazanmış işlevsel bir sözcüğe dönüştüğü
- C) Zaman içinde farklı disiplinler tarafından da kullanıldığı için tanımlanmasının zorlaştığı
- D) Popülerliği ve yanlış kullanılması nedeniyle asıl anlamını yitirdiği ve içinin giderek boşaltıldığı
- E) Siyasi ve sosyal çevrelerdeki farklı kullanımları nedeniyle felsefedeki tanımının da değiştiği

40. Bu parçadan hareketle aşağıdakilerden hangisi söylenemez?

- A) Descartes sonrası modern dönemde etik, toplum yerine bireyi sorgulamak için kullanılan bir sisteme dönüşmüştür.
- B) Modern dönemde etik, öznenin yaptıklarını ilke ve yasaların ışığında değerlendiren ahlak felsefesiyle ve pratik akılla özdeşleşmiştir.
- C) Aristoteles'in felsefesinde sözünü ettiği etik ile bugün yaygın olarak kullanılan etik sözcüğü farklı anlamlar taşır.
- D) Medyada, gündelik hayatta ve politikada etik kavramına gösterilen ilgi, kavramın iletişimsel değerini olumsuz etkilemiştir.
- E) Sonradan popülerlik kazanan kimi kavramlarda olduğu gibi etik kavramının da günümüzde kazandığı yaygınlığın nedeni belirsizdir.



1. Bu testte sırasıyla, Tarih (1-5), Coğrafya (6-10), Felsefe (11-15), Din Kültürü ve Ahlak Bilgisi (16-20), Din Kültürü ve Ahlak Bilgisi dersini yasal olarak almak zorunda olmayan veya farklı müfredat ile alanlar için Felsefe (21-25) alanlarına ait toplam 25 soru vardır.
2. Cevaplarınızı, cevap kâğıdının Sosyal Bilimler Testi için ayrılan kısmına işaretleyiniz.

1. Asya Hun Devleti'nin dağılmasının ardından Hunlar, batıya doğru yayılmaya başlamış ve Karadeniz'in kuzeyinde bulunan Germen kavimlerini batıya doğru itmişlerdir. Kavimler Göçü adı verilen bu süreçte Hunlar Avrupa siyasetinde etkin hâle gelirken ikiye ayrılan Roma İmparatorluğu önemli sorunlarla karşı karşıya kalmıştır.

**Buna göre aşağıdakilerden hangisi Kavimler Göçü'nün sonuçlarından biri olarak gösterilemez?**

- A) Türk kültürü Avrupa'da yayılmıştır.  
B) Avrupa'nın etnik yapısı değişmiştir.  
C) Roma İmparatorluğu güç kaybetmeye başlamıştır.  
D) Bilim ve teknikte önemli gelişmeler yaşanmıştır.  
E) Avrupa'da siyasi dengeler değişmiştir.

2. Gazneli Mahmut, Abbasi halifesini Büveyhoğullarının baskısından kurtarmış ve bu hizmetine karşılık olarak Abbasi halifesinden Sultan unvanını almıştır.

**Bu bilgiyle aşağıdakilerden hangisine ulaşılabilir?**

- A) Gazneli Mahmut'un İslam dünyasının önemli bir siyasi gücü olduğuna  
B) Abbasi halifesinin siyasi yetkilerini Gazneli Mahmut'a bıraktığına  
C) Türkler arasında İslamiyetin hızla yayıldığına  
D) İslam dünyasında mezhep çatışmalarının son bulduğuna  
E) Gazneli Mahmut'un İslam dünyasında siyasi birliği sağladığına

3. Tarih öğretmeni Nil'e ödev olarak Divanîhümayun konusunu vermiştir. Nil hazırladığı ödevde Divanîhümayunun görevlerinden beşini yazmış ancak öğretmeni bunlardan birinin yanlış olduğunu belirtmiştir.

**Buna göre öğretmenin, Nil'in ödevinde yanlış olduğunu belirttiği görev aşağıdakilerden hangisidir?**

- A) Şikâyetlerin dinlenmesi  
B) Savaşa ve barışa karar verilmesi  
C) Önemli davaların görülmesi  
D) Velihtin belirlenmesi  
E) Elçilerin kabul edilmesi

4. Son Osmanlı Mebusan Meclisinden gelen üyelerden ve yeni seçilmiş mebuslardan oluşan Birinci TBMM, bir taraftan kurtuluş mücadelesi verirken diğer taraftan da bağımsız bir devletin temellerini atmıştır. Bu meclisteki vekiller farklı zümrelere ait, farklı meslek ve düşüncelere sahipti. Hükümet üyelerini seçen Meclis; yasama, yürütme ve yargı yetkisini de kullanmaktaydı.

**Buna göre Birinci TBMM ile ilgili olarak aşağıdaki yargılardan hangisine varılamaz?**

- A) İnkılap çalışmalarına öncelik verdiğine  
B) Olağanüstü koşullarda toplandığına  
C) Kuvvetler birliği ilkesini benimsediğine  
D) Meclis hükümeti sisteminin uygulandığına  
E) Toplumdaki çeşitliliği yansıttığına

5. Atatürk, "Bize milliyetçi derler, fakat biz öyle bir milliyetçiyiz ki, bizimle iş birliği eden bütün milletlere hürmet ve riayet ederiz. Bizim milliyetçiliğimiz bencil ve mağrurane milliyetçilik değildir." demiştir.

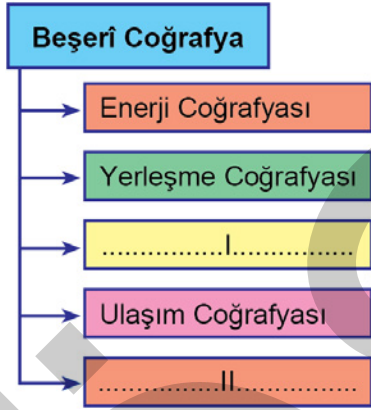
**Buna göre Atatürk milliyetçiliği,**

- I. Başka milletlerin düşmanlığına dayanmaz.
- II. İnsan ve millet onuruna değer verir.
- III. Türk milletini üstün tutar.

**yargılarından hangilerini bünyesinde barındırır?**

- A) Yalnız I      B) Yalnız III      C) I ve II  
D) II ve III      E) I, II ve III

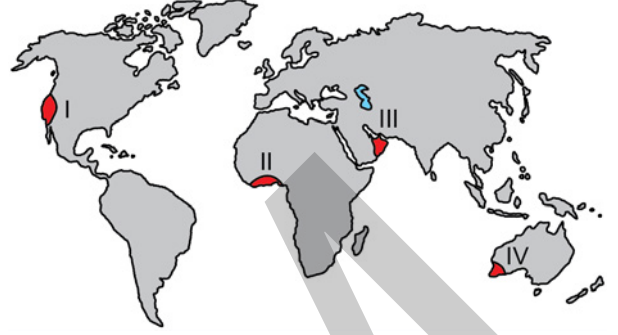
6. Aşağıdaki grafikte Beşerî Coğrafya'nın bazı alt dalları gösterilmiştir.



**Bu grafikte numaralandırılarak boş bırakılan yerlere aşağıdakilerden hangisi getirilmelidir?**

- |                      |                   |
|----------------------|-------------------|
| I                    | II                |
| A) Nüfus Coğrafyası  | Siyasi Coğrafya   |
| B) Bitki Coğrafyası  | Nüfus Coğrafyası  |
| C) Turizm Coğrafyası | Bitki Coğrafyası  |
| D) Siyasi Coğrafya   | Toprak Coğrafyası |
| E) Toprak Coğrafyası | Turizm Coğrafyası |

7. Aşağıdaki haritada bazı alanlar numaralandırılarak gösterilmiştir.



**Bu alanların hangilerinde iklime bağlı olarak benzer bitki topluluklarına rastlanır?**

- A) I ve II      B) I ve IV      C) II ve III  
D) II ve IV      E) III ve IV

8. Bir ülkenin istatistik kurumu tarafından yayımlanan raporunda, ülke nüfusunun ortalama yaşının 17 olduğu belirtilmiştir.

**Bu ülkenin nüfusuyla ilgili olarak aşağıdakilerden hangisi söylenebilir?**

- A) Doğum oranının yüksek olduğu  
B) Yaşlı nüfus oranının yüksek olduğu  
C) Ölüm oranının düşük olduğu  
D) Gelişmiş bir ülke olduğu  
E) Eğitim seviyesinin yüksek olduğu

9. Birleşmiş Milletler tarafından çeşitli nüfus istatistikleri yayımlanmaktadır. Bu istatistiklerden biri de ülkelerin Doğumda Beklenen Yaşam Süreleri ile ilgili olanıdır. Bu süre çeşitli ülkelerdeki bireylerin ortalama yaşam sürelerini gösterir.

Aşağıda bir bölümü gösterilen harita, bazı ülkelerin 2020-2025 dönemi için Erkeklerde Doğumda Beklenen Yaşam Sürelerine göre renklendirilmiştir.



Erkeklerde Doğumda Beklenen Yaşam Süreleri (Yıl)

50 ve 54	70 ve 74
55 ve 59	75 ve 79
60 ve 64	80 ve 84
65 ve 69	

Buna göre aşağıdakilerden hangisi "Erkeklerde Doğumda Beklenen Yaşam Süresi"nin 75-79 yıl olacağı tahmin edilen ülkelerden biridir?

- A) Irak B) Mısır C) Umman  
D) Suriye E) Kuveyt

10. Büyük depremlerin her zaman olmasa da başka doğal afetleri tetikleyebildiği bilinmektedir.

Aşağıdaki doğal afetlerden hangisinin oluşumunda depremin böyle bir etkisi bulunmaz?

- A) Heyelan B) Tsunami C) Çığ  
D) Erozyon E) Kaya düşmesi

11. Kimileri felsefenin çözümsüz meseleler ile soyut ve yaşamdan kopuk fikirlerden ibaret olduğunu sanır. Hatta bunlar felsefenin "boş konuşma" olduğunu bile söylerler. Yaşamın hızlıca akıp geçtiğine, bu yüzden derin düşünmenin gerekli olmadığına inanırlar. Dahası birtakım önemli konulara kıyasından köşesinden ilişkinleri "Felsefe yapma!" diyerek azarladıkları bile olur. Oysa felsefe yapmak, "hayatı doğrudan deneyimleme tavrından" ve "yaşamla yüzleşme" düşüncesinden ayrı tutulamaz. Hatta felsefeyle iç içe olan insan, yaşamın ne olduğunu sorgularken aynı zamanda yaşamın görünen yüzünün ötesine de nüfuz eder.

Bu parçadan felsefeyle ilgili aşağıdaki yargıların hangisine ulaşamaz?

- A) Var olanın ardındaki gerçeği arar.  
B) Bireyin deneyimlerinden bağımsız değildir.  
C) Sorunlara genelgeçer soyut çözümler sunar.  
D) Herkesin ilgilendiği bir alan değildir.  
E) Hayatın özünü ve anlamını sorgular.

12. Bir mağara düşünün. Mahkûmlar, yüzleri mağaranın arka duvarına dönük zincirlenmiş. Ömürleri boyunca orada tutulmuşlar ve başları, duvar dışında hiçbir şey göremeyecek şekilde sabitlenmiş. Arkalarında bir ateş yanmakta ve sırtlarıyla ateş arasında bir yol var. Bu yolda yürüyen insanların gölgeleri mağaranın duvarına vurur; gelip geçenlerden bazıları ellerinde birtakım nesnelere taşırlar ve bu nesnelere gölgeleri de duvara yansır. Mağaranın içindeki mahkûmlar her zaman yalnızca gölgeleri görür. Gölgelerin gerçek şeyler olduklarına inanırlar, ama aslında gerçek şeyleri hiç görmezler.

**Bu parçada betimlenen mağara metaforundan aşağıdaki yargıların hangisine ulaşılabılır?**

- A) Gerçekliğin doğası değişmez ve farklı yüzleri bulunmaz.
- B) Duyuların yanıltıcılığından kurtulmak için başkalarının yardımına ihtiyaç duyarız.
- C) Aklın çalışma ilkelerini duyulardan gelen veriler belirler.
- D) Duyuların kullanımı hakikate ulaşmak için bir ön koşuldur.
- E) Duyular aracılığıyla bildiklerimiz tümüyle bir yanılsama olabilir.

13. Levinas'a göre kişinin kendisi hakkındaki endişelerinden doğan eylemler ahlaki değerlendirme kapsamına girmez. Örneğin acıktığımda karnımı doyurmam sadece kendimi koruma içgüdümden kaynaklanır. Ama aynı endişeyi başka bir insana yöneltmek, örneğin aç bir çocuğu, misafiri ya da yabancıyı doyurmak, ona önem vermek ahlaki bir davranıştır. Benzer şekilde "kendime yardım etmem" bencillik ya da açgözlülükle ilgili olabileceken, başkalarına yardım etmem her zaman ahlaki bir anlam çağırır. Bu yüzden Levinas'a göre ahlak kavramı, kendimizin dışında, başka birisinin ya da birilerinin olduğunu kabul etmeyi zorunlu olarak içerir.

**Buna göre Levinas ahlaki değerlendirmenin amacı olarak aşağıdaki kavramlardan hangisini vurgulamaktadır?**

- A) Ölümlülük
- B) Mutluluk
- C) Sorumluluk
- D) Fayda
- E) Dinginlik

14. Her insanın sağlığını korumak kendi sorumluluğundadır ve kendisine bırakılmalıdır. Bir kişi sağlığını veya mülklerini koruma konusunda ihmalkâr davranırsa devlet özel bir yasayla bu tür bir kimsenin yoksullaşmasını veya hastalanmasını engelleyebilir mi? Kanunlar, mümkün olduğu kadar, vatandaşların mülkiyetinin ve sağlığının başkalarının sahtekârlığı ve şiddeti yüzünden zarar görmemelerini sağlar. Ancak kanunlar, bireyleri mülkiyetlerine ve sağlıklarına yönelik kendi ihmalkârlıklarından korumazlar; çünkü hiç kimse, istesin istemesin, zengin veya sağlıklı olmaya mecbur edilemez.

**Bu parçadan aşağıdaki yargıların hangisine ulaşılabılır?**

- A) Bireyin yaşamında gerekli olan araçlar devlet eliyle dağıtılmalıdır.
- B) Devlet sadece bireysel hakların başkaları tarafından ihlali durumunda müdahale etmelidir.
- C) Devlet, vatandaşların can ve mal güvenliğini her koşulda sağlamalıdır.
- D) Düzenin sağlanması için devlet bütün toplumsal mekanizmalara müdahale eder.
- E) Sağlıklı bir toplum ancak bireylerin devlete tam itaati ile gerçekleşir.

15. Ne bilimin kendisi belli bir bilimsel yaklaşımın tekelindedir ne de insanı, doğayı ve de uçsuz bucaksız evreni anlamak için bilim, sahip olduğumuz tek araçtır. Var olanın ve olayların anlaşılıp açıklanması için adına bilimsel diyelim ya da demeyelim sayısız yollar vardır ve iyi ki de vardır. Bu, insana sağlanmış ne büyük bir olanaktır!

**Bu parça aşağıdaki yargılardan hangisiyle çelişir?**

- A) Varlığı kavramada felsefe, sanat ve din bilime alternatif oluşturamazlar.
- B) Bir bilimsel yaklaşımın diğerine mutlak üstünlüğü söz konusu değildir.
- C) İnsan yaşamını zenginleştirmede tek kaynak bilim değildir.
- D) Bilimsel bilginin, diğer bilgi türlerinden bir üstünlüğü yoktur.
- E) Bilim aracılığıyla üretilen bilgilere kutsallık atfedilemez.

**16.-20. soruları Din Kültürü ve Ahlak Bilgisi dersini yasal olarak almak zorunda olanlar ve İmam Hatip Okulları öğrencileri/mezunları cevaplayacaktır.**

16. "... O gaybı da, görünen âlemi de bilendir. O, Rahman'dır, Rahîm'dir. O, kendisinden başka hiçbir ilah bulunmayan Allah'tır. O, mülkün gerçek sahibi, kutsal (her türlü eksiklikten uzak), barış ve esenliğin kaynağı, güvenlik veren, gözetip koruyan, mutlak güç sahibi, düzeltip ıslah eden ve dilediğini yaptıran ve büyüklükte eşsiz olan Allah'tır. Allah, onların ortak koştuklarından uzaktır. O, yaratan, yoktan var eden, şekil veren Allah'tır. Güzel isimler O'nundur. Göklerdeki ve yerdeki her şey O'nu tesbih eder. O, mutlak güç sahibidir, hüküm ve hikmet sahibidir." (Haşr, 59:22-24)

**Bu ayetlerde Allah'ın sıfatlarından hangisine değinilmemiştir?**

- A) Kudret B) İlim C) Tekvin  
D) Beka E) Vahdaniyet
17. Peygamberler, Allah'ın insanlara iletmek istediği mesajları bildirmek üzere görevlendirilen elçilerdir. Onların görevi Allah'tan aldıkları vahyi insanlara ileterek onları kötülük ve haksızlık gibi davranışlardan uzaklaştırmak, adalet ve eşitlik gibi güzel hasletlerin yaygınlaşmasını sağlamaktır. Bunu da önce kendileri en güzel şekilde uygulayarak insanlara rehberlik etmişlerdir.
- Bu parçadan hareketle peygamberler hakkında aşağıdakilerin hangisine ulaşamaz?**
- A) Tebliğ yapmakla sorumludurlar.  
B) Vahyi pratiğe dökerler.  
C) Allah tarafından seçilmişlerdir.  
D) Toplumun ıslahına hizmet ederler.  
E) Hata yapmaktan korunmuşlardır.

18. Dar gelirli bir ailenin çocuğu olarak doğan Ali Kemal, tahsilini tamamladıktan sonra ticaretle uğraşmaya başlar ve ticaretten büyük miktarda elde ettiği gelire hayır işleri yapmak ister.

**Ali Kemal'in bu amaçla yaptığı;**

- I. geçim sıkıntısı çeken babasına gönderdiği paralar,  
II. ihtiyaç sahibi çocuklara verdiği eğitim bursları,  
III. hayrat olarak yaptırdığı çeşme

**yardımlarından hangileri zekât olarak geçerli olabilir?**

- A) Yalnız I B) Yalnız II C) Yalnız III  
D) I ve II E) I, II ve III

19. Osmanlı Dönemi'nde esnafın alacaklarını kaydettiği defterlere zimem defteri denirdi. Bu defterlerde halkın daha sonra ödemek üzere satın aldığı ürünler kaydedilir ve ödendikçe silinirdi. Bu defterler yoluyla çevrede kimin fakir hatta zor durumda olduğu kolaylıkla tespit edilebilirdi. Zenginler bu sayede esnafa gelerek borcu biriken ve ödeme zorluğu çeken kimselerin borcunu öderdi. Bu şekilde zengin, herhangi bir karşılık beklemeden sırf Allah rızası için yardımını gerçekleştirmiş, fakir de kendini minnet altında hissetmemiş olurdu.

**Bu uygulamanın öncelikle aşağıdaki olumsuz davranışlardan hangisini engellediği söylenebilir?**

- A) İsrat B) Nankörlük  
C) Haset D) Hırs  
E) Gösteriş

20. Hz. Muhammed bir gün kendisine gelen birinin görüşme sırasında aşırı derecede heyecanlandığını görünce "Kardeşim, korkma! Ben de senin gibi annesi kurutulmuş et yiyen bir insanım." diyerek yanına gelen o kimseyi sakinleştirmiştir.

**Hz. Muhammed'in bu davranışı aşağıdaki ahlaki kavramlardan hangisine örnek gösterilebilir?**

- A) Yumuşak huyluluk      B) Tevazu  
C) Fedakârlık              D) Hoşgörü  
E) Adil olma

**21.-25. soruları Din Kültürü ve Ahlak Bilgisi dersini yasal olarak almak zorunda olmayan veya farklı müfredat ile alanlar cevaplayacaktır.**

21. Descartes, Sofist Gorgias'dan beri süregelen kuşkuculuğu eleştirmek amacıyla "Düşünüyorum o hâlde varım." önermesini geliştirmiştir. Buna göre, her şeyin varlığından hatta bir rüyada olup olmadığımıdan bile kuşku duyabilirim. Fakat kuşku duyarken kuşku duyduğumdan ve bu şekilde düşünüyordüğümünden kuşku duyamam. Dolayısıyla kuşkumun varlığı düşünen bir şey olarak varlığımın kesinliğini ortaya koyar. Bu doğrudan erişilebilen bir bilgidir.

**Bu parçada Descartes bilgi felsefesinin hangi temel sorusuna yanıt aramaktadır?**

- A) Rüya ve gerçek olan birbirinden nasıl ayrılır?  
B) Bilginin sınırı var mıdır?  
C) Aşkın bilgiye ulaşılabilir mi?  
D) Kesin bilgi olanaklı mıdır?  
E) Doğru bilginin ölçütü nedir?

22. La Mettrie'ye göre insanlar ve hayvanlar yaylar kümesinden oluşan birer makineydi. Ancak insan, hayvana göre daha karmaşık bir makineydi ve aralarında eğer bir fark varsa bu fark yayların yerleriyle ilgili olabilirdi. Dolayısıyla La Mettrie için ruh da tüm makinenin ana yayı gibi ele alabileceğimiz bir hareket ilkesi veya bedenin duyarlı bir maddi kısmından ibaretti. Bu sistemin diğer tüm kısımları da sadece beynin bir çeşit işleviydi.

**La Mettrie'nin bu görüşlerinden aşağıdaki yargıların hangisine ulaşılabilir?**

- A) Beden ile ruh insan varoluşunun farklı görünümüdür.  
B) Ruh, tek gerçeklik olan maddeye indirgenerek açıklanabilir.  
C) Hayvanlardan farklı olarak insanın özü, ölümsüz ruhudur.  
D) İnsan, farklı niteliklere sahip iki tözden; madde ve ruhtan oluşur.  
E) Bedeni harekete geçiren ruh, tinsel yaşam ilkesidir.

23. MacIntyre'a göre, içinde yaşadığımız modern dünyada ahlak dili endişe verici durumdadır. Bugün sahip olduğumuz şey bütünden kopuk yalnızca parçalardan oluşan bir kavramsal çerçevenin fragmanlarıdır. Temel ifadelerin çoğunu kullanıyoruz ama aslında ahlakın suretine sahibiz. Sahip olduğumuz bölük pörçük fragmanlarla ahlak felsefesi yaparken bu fragmanların anlamlarını buldukları düşünce bütünlüğünü kaybetmiş olduğumuzun farkında bile değiliz. Maalesef, idrakimizi ve ahlak anlayışımızı, tamamen değilse de büyük ölçüde yitirmiş bulunuyoruz.

**Bu parçada modern dünyanın ahlak diline yönelik yapılan eleştiri aşağıdakilerden hangisidir?**

- A) Evrensel değerlere ulaşmak için bir yöntem geliştirilmemektedir.
- B) Siyasal eğilimlerin ahlaka etkisi göz ardı edilmektedir.
- C) İnanç sistemleri ahlaki değerlendirmelerin dışında bırakılmaktadır.
- D) Bireylerin duygu ve düşünceleri dikkate alınmamaktadır.
- E) Temel ahlaki değerler ait oldukları bağlamlardan koparılmaktadır.

24. Beğeni yargısı, nesnenin varlığına yönelik öznel bir ilgi içermeyen, kişisel hoşlanma veya hoşlanmama duygusundan arınmış, sadece nesnenin niteliklerini merkeze alan bir yargıdır. Bu demektir ki, hiçbir karşılık gözetmeyen bir seyir, güzelliği görecektir. Güzellik nesnenin taşıdığı bir şeydir. Bu da beğeni yargılarında keyfilik olmadığı anlamına gelir. Hiçbir çıkar gözetmeyen, kavramsız bir beğeni yargısı apriori, genelgeçer, zorunlu bir yargıdır.

**Bu parçadan aşağıdaki yargıların hangisine ulaşamaz?**

- A) Güzellik nesneye içkindir.
- B) Zevkler ve renkler tartışılmaz.
- C) Estetik yargılar görelidir.
- D) Güzellik öznel değil nesnedir.
- E) Güzel ile faydalı farklı şeylerdir.

25. Bir ressam, bir insan figürü çizdiğinde ortaya çıkan resmin güzelliğine şaşarak bakar ve sanki resimdeki figür canlıymış gibi ressamın sanatına ve zekâsına hayran kalırsın. Ancak bu resmin; boya, kalem, el, kâğıt, kudret, ilim ve iradeyle meydana geldiğini, bunların hiçbirinin ressamın yaratmasıyla olmadığını, ilahi bir varlığın yaratması olduğunu bilirsin. Olsa olsa ressamın yaptığı, boya ve kâğıdı bir araya getirmekten ibaretken ona hâlâ bu kadar saygı duyarsın... Hâlbuki asıl sanat, yoktan yaratan, yarattıklarına benzersiz şekiller vererek onları süsleyen eşi benzeri olmayan bir yaratıcının sanatıdır.

**Gazali'nin görüşlerini yansıtan bu parçada din felsefesinin aşağıdaki problemlerinden hangisiyle ilgili bir cevap bulunmamaktadır?**

- A) Tanrı tek midir, çok mudur?
- B) Tanrı var mıdır, yok mudur?
- C) Tanrı ezeli ebedî midir?
- D) Evrenle Tanrı arasındaki ilişki nasıldır?
- E) Evren yaratılmış mıdır?

1. Bu testte 40 soru vardır.

2. Cevaplarınızı, cevap kâğıdının Temel Matematik Testi için ayrılan kısmına işaretleyiniz.

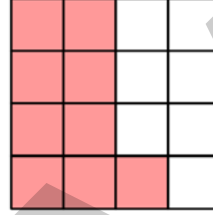
1. Emel, içtiği su miktarını hesaplayabilmek için şekilde verilen su şişesinin dik dairesel silindirik biçimindeki 2 litrelik kısmını önce 4 eşit parçaya, sonra da her bir parçayı 5 eşit parçaya bölerek ölçeklendirmiştir. Emel, içinde 2 litre su bulunan şişesindeki suyun bir kısmını içtikten sonra şişede oluşan görünüm aşağıda verilmiştir.



Buna göre, Emel bu şişeden kaç litre su içmiştir?

- A)  $\frac{1}{4}$       B)  $\frac{3}{4}$       C)  $\frac{2}{5}$   
 D)  $\frac{3}{5}$       E)  $\frac{4}{5}$
2. İnternet üzerinden yapılan 6 turluk bir yarışmanın ilk turuna 1.000.000 yarışmacı katılıyor. Her turun sonunda, o tura katılan yarışmacıların 5'te 1'i eleniyor ve sadece kalan yarışmacıların tamamı bir sonraki tura katılıyor. Buna göre, 6. turun sonunda kalan yarışmacı sayısı kaçtır?
- A)  $2^{16}$       B)  $2^{18}$       C)  $2^{20}$       D)  $2^{22}$       E)  $2^{24}$

3. Aşağıdaki 16 eş parçadan oluşan şekilde, pembe renge boyalı parçaların sayısının tüm parçaların sayısına oranı ile bir kesir ifade ediliyor.



Bu kesrin kareköküne eşit olan kesri ifade etmek için boyalı olmayan parçalardan kaç tanesi daha pembe renge boyanmalıdır?

- A) 1      B) 2      C) 3      D) 4      E) 5
4. Aşağıdaki kutuların içine 1, 2, 3, 4, 5, 6, 7 ve 8 sayıları, her kutuya farklı bir sayı gelecek şekilde yerleştirildiğinde tüm eşitlikler sağlanmaktadır.
- $\square : \square = 4$   
 $\square \times \square = 4$   
 $\square - \square = 4$   
 $\square + \square = A$
- Buna göre, A sayısı kaçtır?
- A) 7      B) 8      C) 9      D) 10      E) 11



5. İçinde bir A doğal sayısının yazılı olduğu n kenarlı bir çokgen sembolünün değeri,  $\frac{A}{n}$  kesrinin ondalık gösteriminin tam kısmına eşittir.

Örnek :  $\triangle 6 = \square 9 = 2$

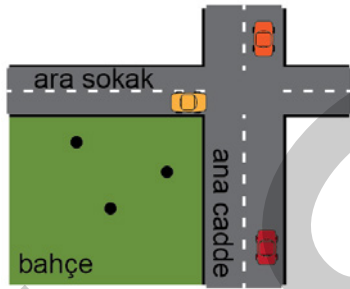
AB iki basamaklı bir doğal sayı olmak üzere,

$\hexagon AB = \square 19 = \pentagon AB$

olduğuna göre, A + B toplamı kaçtır?

- A) 6 B) 7 C) 8 D) 9 E) 10

6. Aşağıdaki şekilde, birbirleriyle dik kesişen ve her bir kenarı doğrusal olan bir ana cadde ile bir ara sokak arasında kalan bahçede bulunan elma, armut ve ceviz ağaçlarının konumlarını belirten üç nokta gösterilmiştir.



Bu bahçedeki ağaçlardan ana caddeye en yakın olanı elma, en uzak olanı ise armut ağacıdır.

Buna göre, ara sokağa en yakın olan ağaçtan en uzak olan ağaca doğru sıralama aşağıdakilerden hangisidir?

- A) Armut - Ceviz - Elma B) Armut - Elma - Ceviz  
C) Ceviz - Armut - Elma D) Elma - Armut - Ceviz  
E) Elma - Ceviz - Armut

7. x, y ve z pozitif tam sayılar olmak üzere,

$$\frac{x-z}{y} = x$$

eşitliği veriliyor.

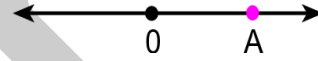
Buna göre,

- I. x tek sayıysa y çift sayıdır.  
II. x çift sayıysa z çift sayıdır.  
III. y tek sayıysa z çift sayıdır.

ifadelerinden hangileri her zaman doğrudur?

- A) Yalnız I B) Yalnız II C) I ve II  
D) I ve III E) II ve III

8. Sayı doğrusu üzerinde pozitif bir A sayısı şekildeki gibi gösterilmiştir.




Sonra, bu sayı doğrusu üzerinde; 0'a olan uzaklığı, A sayısının 0'a olan uzaklığının yarısına eşit olan sayılar işaretleniyor.

İşaretlenen sayılardan birinin A sayısına uzaklığı 6 birim olduğuna göre, A sayısının alabileceği değerler toplamı kaçtır?

- A) 15 B) 16 C) 18 D) 20 E) 21

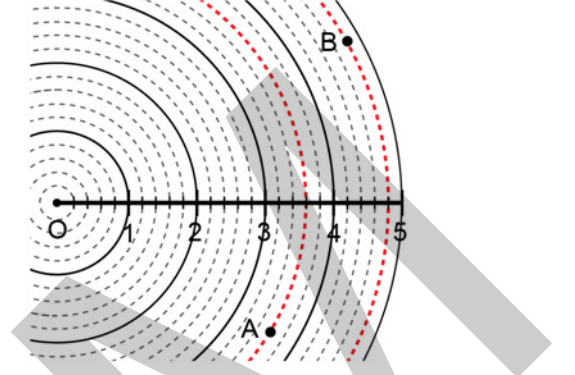
9. Her birinde eşit miktarda süt bulunan iki şişeden birincisindeki sütün tamamı, özdeş boş bardaklardan üçünü ve özdeş boş fincanlardan birini, ikincisindeki sütün tamamı ise bu boş bardaklardan ikisini ve bu boş fincanlardan üçünü tamamen doldurmaktadır.



Buna göre; aynı miktar süt bulunduran üçüncü bir şişedeki sütün tamamı, bu boş fincanlardan kaçını tamamen doldurur?

- A) 6 B) 7 C) 8 D) 9 E) 10

10. Yarıçap uzunluğu 5 birim olan O merkezli dairesel parkurun bir yarıçapı üzerinde, her 1 birimi beş eş aralığa bölen noktalar işaretlenmiştir. Sonra, bu noktalardan geçen O merkezli çember yayları şekilde gösterildiği gibi çizilmiştir.



O noktasından 2 tane mızrak atışı yapan Ahmet'in ilk attığı mızrak A noktasına, ikinci attığı mızrak ise B noktasına düşmüştür.

**A noktasının O noktasına uzaklığı 54 metre olduğuna göre, B noktasının O noktasına uzaklığı kaç metredir?**

- A) 63 B) 66 C) 72 D) 75 E) 81

11. Ayça; 56'dan başlayarak ileriye doğru altışar altışar sayıp iki basamaklı bir AB doğal sayısına ulaştıktan sonra, ulaştığı bu sayıdan geriye doğru beşer beşer sayarak 15 sayısına ulaşıyor.

**Buna göre, A + B toplamı kaçtır?**

- A) 6 B) 7 C) 8 D) 9 E) 10

12. Rakamları birbirinden farklı üç basamaklı bir doğal sayının en büyük rakamı ile en küçük rakamı arasındaki farka, o sayının rakamsal genişliği denir.

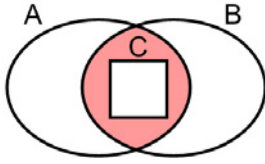
Buna göre, rakamsal genişliği 8 olan kaç tane sayı vardır?

- A) 70 B) 72 C) 78 D) 80 E) 84

13. Aşağıdaki Venn şemasında

- 2 ile kalansız bölünebilen tam sayılar kümesi A,
- 3 ile kalansız bölünebilen tam sayılar kümesi B,
- 12 ile kalansız bölünebilen tam sayılar kümesi C

ile gösterilmektedir.



Buna göre,

- I. 18  
II. 24  
III. 42

sayılarından hangileri boyalı bölge ile gösterilen kümenin bir elemanıdır?

- A) Yalnız I B) Yalnız II C) I ve II  
D) I ve III E) II ve III

14. a ve b gerçel sayılar olmak üzere, gerçel sayılar kümesi üzerinde f ve g fonksiyonları

$$f(x) = ax - b$$

$$g(x) = bx - 2$$

biçiminde tanımlanıyor.

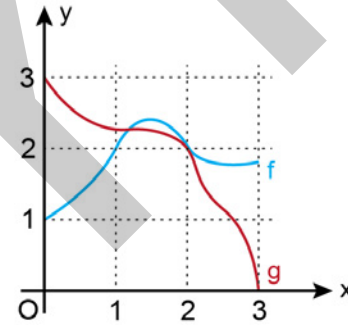
$$(f + g)(1) = f(1)$$

$$(f + g)(2) = g(2)$$

olduğuna göre, a · b çarpımı kaçtır?

- A) 2 B) 4 C) 6 D) 8 E) 10

15. Dik koordinat düzleminde  $[0, 3]$  aralığında tanımlı f(x) ve g(x) fonksiyonlarının grafikleri şekilde verilmiştir.



Bir  $a \in (0, 1)$  sayısı için

$$b = (f \circ g)(a)$$

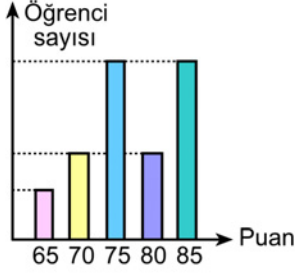
$$c = (g \circ f)(a)$$

olarak belirleniyor.

Buna göre; a, b ve c sayılarının doğru sıralanışı aşağıdakilerden hangisidir?

- A)  $a < b < c$  B)  $a < c < b$  C)  $b < a < c$   
D)  $b < c < a$  E)  $c < a < b$

16. Tüm değerlerin eşit sayıda tekrar etmediği bir veri grubundaki en çok tekrar eden her bir değer, bu veri grubunun tepe değeri (mod) olmaktadır. 48 öğrencinin bulunduğu bir sınıftaki öğrencilerin tamamı matematik sınavına girmiş ve bu öğrencilerin tamamının bu sınavdan aldıkları puanlara göre sayıca dağılımı aşağıdaki sütun grafiğinde verilmiştir.



Bu sınavdan alınan puanların oluşturduğu veri grubunun tepe değerleri bulunmuş ve puanları bu değerler olan toplam öğrenci sayısının 32 olduğu görülmüştür. Ayrıca, bu sınıfta bu sınavdan 70'ten yüksek puan alan öğrenci sayısı 38 olarak hesaplanmıştır.

**Buna göre, bu sınıfta bu sınavdan 65 puan alan öğrenci sayısı kaçtır?**

- A) 2      B) 3      C) 4      D) 5      E) 6
17. Bir market alışverişini tamamladıktan sonra ödeme yapmak için kasaya gelen Arda'ya kasadaki görevli, aldığı ürünlerin toplam 45 TL tuttuğunu, fakat 50 TL ve üzeri alışverişlerde bazı ürünleri 2'şer TL daha ucuza alabileceğini söylüyor.

Bunun üzerine son bir ürün daha alan Arda, yalnızca önceden almış olduğu ürünlerden beş tanesine uygulanan bu indirimle görevliye toplam 43 TL ödüyor.

**Buna göre, Arda'nın son aldığı ürünün fiyatı kaç TL'dir?**

- A) 5      B) 6      C) 7      D) 8      E) 9

18. İki katlı bir otoparkın girişinde bulunan tarih, saat ve her bir kattaki boş olan park yeri sayısını gösteren tabelanın farklı saatlere ait iki görünümü aşağıda verilmiştir.

07.06.19 10:00		07.06.19 22:00	
	Boş		Boş
1. Kat	26	1. Kat	82
2. Kat	86	2. Kat	89

Bu otoparka giriş yapan araçların tamamının park ettiği ve verilen bu iki saat arasında otoparka giriş yapan araç sayısı ile otoparktan çıkış yapan araç sayısı toplamının 51 olduğu bilinmektedir.

**Buna göre, verilen bu iki saat arasında otoparka giriş yapan araç sayısı kaçtır?**

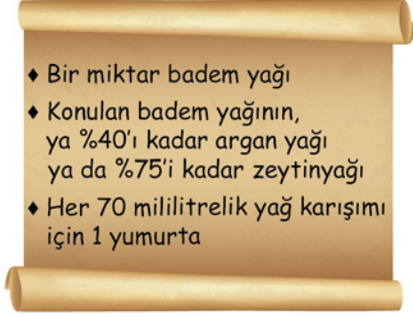
- A) 12      B) 20      C) 28      D) 36      E) 44

19. Defne'nin 7 arkadaşı, Defne'ye ortak bir hediye almaya karar vermiş ve hediyein tutarını aralarında eşit olarak paylaşmayı planlamışlardır. Ali, Buse ve Can'ın yeteri kadar parası olmadığından her biri payına düşen miktarın yalnızca yarısını verebilmiştir. Bunun üzerine, diğer dört arkadaş hediyein kalan tutarını kendi aralarında eşit olarak bölüşmüşlerdir.

**Bu dört arkadaştan her biri planlanandan 6 TL daha fazla verdiğine göre, alınan hediyein tutarı kaç TL'dir?**

- A) 112      B) 126      C) 140      D) 147      E) 154

20. Deniz ve Eylül, ellerindeki yumurtaları ve her birinin içinde 60 mililitre yağ bulunan şişelerdeki yağları aşağıda verilen sıra ve oran ile karıştırarak birer saç maskesi karışımı elde ediyorlar.

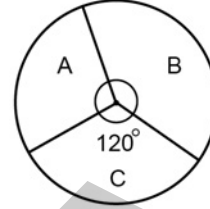


Her birinde yalnızca iki çeşit yağın bulunduğu bu iki karışım elde edilirken Deniz 1 şişe argan yağının tamamını, Eylül ise 2 şişe zeytinyağının tamamını kullanmıştır.

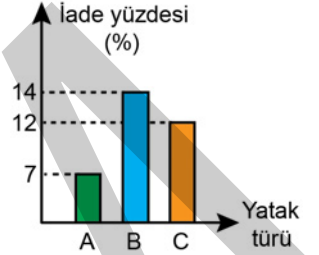
**Buna göre, bu iki karışım için kullanılan toplam yumurta sayısı kaçtır?**

- A) 4      B) 5      C) 6      D) 7      E) 8
21. Bir seracının elinde özdeş 30 adet boş tahta kasa ve özdeş 20 adet boş plastik kasa bulunmaktadır. Seracı, sadece tahta kasaları kullanarak bu kasaların tamamını doldurduğunda topladığı domateslerin % 60'ını, sadece plastik kasaları kullanarak bu kasaların tamamını doldurduğunda ise topladığı bu domateslerin % 65'ini kasalara koymuş oluyor.
- Dolu bir tahta kasada 8 kilogram domates olduğuna göre, dolu bir plastik kasada kaç kilogram domates vardır?**
- A) 9      B) 10      C) 11      D) 12      E) 13

22. Bir yatak firması A, B ve C olmak üzere üç tür yatak üretip satmakta ve sattığı bu yatakların bir kısmı müşteriler tarafından firmaya iade edilmektedir. Bir ay boyunca firmanın bu yataklara ait satış miktarının sayıca dağılımı Şekil 1'deki daire grafiğinde, satılan bu yatakların iade yüzdeleri ise Şekil 2'deki sütun grafiğinde gösterilmiştir.



Şekil 1



Şekil 2

Bu ay boyunca A türü yataklardan 600 tane satılmış ve bu ay boyunca satılan B türü yataklardan 168 tanesi iade edilmiştir.

**Buna göre, bu ay boyunca satılan A ve C türü yataklardan toplam kaç tanesi iade edilmiştir?**

- A) 90      B) 105      C) 120      D) 135      E) 150

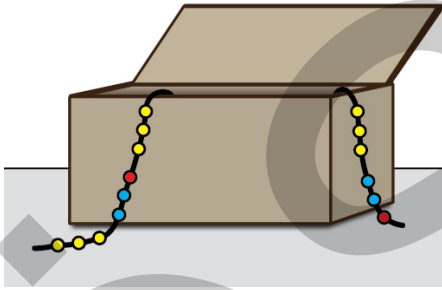
23. Bir asansör, içinde yer alan kişilerin ağırlıkları toplamı yük taşıma kapasitesini geçerse uyarı vermektedir. Boş olan bu asansöre; ağırlıkları 25, 40, 50, 60 ve 63 kilogram olan beş kişiden hangi dördü binerse binsin asansörün uyarı verdiği, hangi üçü binerse binsin asansörün uyarı vermediği görülmüştür.
- Buna göre, bu asansörün yük taşıma kapasitesi kilogram türünden aşağıdakilerden hangisi olabilir?**
- A) 170      B) 172      C) 174      D) 176      E) 178

24. Barış'ın elinde 3, 4, 5, 6 ve 10 kilogramlık birer ağırlık ile 1 kilogramlık bir miktar ağırlık bulunmaktadır. Barış bu ağırlıkların tamamını, eşit kollu bir terazinin başlangıçta boş olan kefelerine, her bir kefedeki bulunan ağırlıkların çarpımı birbirine eşit olacak şekilde yerleştirdiğinde terazi dengeye gelmiştir.

Buna göre, Barış'ın elindeki 1 kilogramlık ağırlıkların sayısı en az kaçtır?

- A) 1 B) 2 C) 3 D) 4 E) 5

25. Elinde yeterli sayıda sarı, mavi ve kırmızı renkte taş bulunan Aylin; sırasıyla 3 sarı, 2 mavi ve 1 kırmızı taşı bir ipe dizmiş, sonra taşların bu renk dizilimi korunacak şekilde aynı işlemi belirli sayıda tekrarlayarak bir bileklik yapmıştır. Aylin, bu bilekliği boş bir takı kutusunun içine yerleştirdiğinde bileklikteki bazı taşların kutunun iç kısmında, diğerlerinin ise şekildeki gibi kutunun dış kısmında kaldığını görmüştür.



Kutunun içindeki sarı taşların sayısı, kutunun içindeki mavi taşların sayısından 2 fazla olduğuna göre, bileklikte kullanılan toplam taş sayısı kaçtır?

- A) 30 B) 36 C) 42 D) 48 E) 54

26. A şehrinde yaşayan Kerem, B şehrindeki Aslı'yı ziyaret etmek istemektedir. Haritadan bu iki şehir arasındaki yolu belirleyen Kerem, planladığı bir saatte yola çıkıp aracıyla saatte 100 km hızla giderse saat 09.00'da, saatte 60 km hızla giderse aynı gün saat 11.00'de B şehrine varacağını hesaplıyor.

Buna göre, Kerem'in planladığı bu saatte yola çıkıp aynı gün saat 10.00'da B şehrine varması için aracının saatteki hızı kaç km olmalıdır?

- A) 72 B) 75 C) 80 D) 85 E) 88

27. Çevresi 320 cm olan dikdörtgen şeklindeki bir kartonun kenar uzunluklarını, dikdörtgen biçimindeki bir kitap ayracıyla ölçen Esra, bu ayracın kenar uzunluklarını hesaplamak istiyor. Kartonun uzun kenarının ayracın uzun kenarının 10 katı, ayracın kısa kenarının ise 25 katı olduğunu ölçen Esra, kartonun kısa kenarının ayracın kısa kenarının 15 katı olduğunu hesaplıyor.

Buna göre, kitap ayracının çevresi kaç cm'dir?

- A) 20 B) 24 C) 28 D) 32 E) 36

28. Onur, tamamı büyük harflerle yazılmış 80 kelimedenden oluşan bir metin okumuş ve bu metinde bulunan "A" harflerinin toplam sayısını merak edip bunları saymıştır. Onur, bu sayma işleminde toplam 105 tane "A" harfi bulunduğunu görmüştür.
- Ayrıca, Onur her bir kelimenin en fazla 2 tane "A" harfi içerdiğini ve "A" harfi içeren kelime sayısının, "A" harfi içermeyen kelime sayısının 3 katı olduğunu fark etmiştir.
- Buna göre, Onur'un okuduğu metinde yalnızca 1 tane "A" harfi içeren kelime sayısı kaçtır?**
- A) 12    B) 15    C) 18    D) 21    E) 24

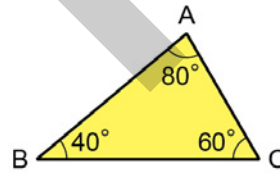
29. Bir hava yolu şirketine ait bir uçağın sabah ve akşam gerçekleştireceği birer uçuş için iş tecrübeleri birbirinden farklı toplam 8 kabin çalışanı bulunmaktadır.
- Bu çalışanlardan her biri yalnızca bir ekipte yer alacak ve bu çalışanlar arasından en tecrübeli üç çalışan aynı ekipte olmayacak şekilde dörder kişilik iki uçuş ekibi oluşturulacaktır.
- Buna göre, sabah ve akşam uçuş ekipleri kaç farklı şekilde oluşturulabilir?**
- A) 48    B) 54    C) 56    D) 60    E) 64

30. Aşağıda; üzerlerinde 6, 8, 10 ve 12 sayıları yazan dört kart gösterilmiştir.

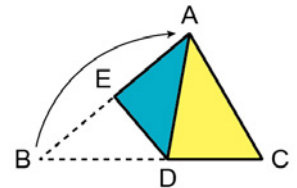


- Bu kartları gören Yiğit,  
"Kartlardan rastgele ikisini seçip üzerlerinde yazan sayıları toplayacak olsam, kendi yaşımı bulma olasılığım  $\frac{1}{3}$  olur."  
iddiasında bulunuyor.
- Bu iddia doğru olduğuna göre, Yiğit'in yaşı kaçtır?**
- A) 14    B) 16    C) 18    D) 20    E) 22

31. Ön yüzü sarı, arka yüzü mavi renkli olan üçgen biçimindeki ABC kâğıdı Şekil 1'de gösterilmiştir. Bu kâğıt; B köşesi, A köşesinin üzerine gelecek biçimde Şekil 2'deki gibi katlanmıştır.



Şekil 1

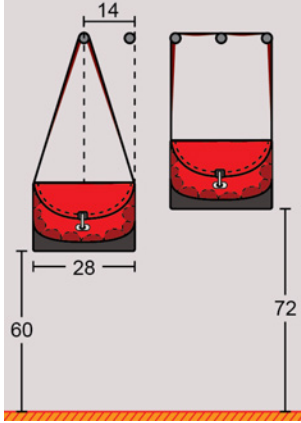


Şekil 2

- Buna göre; |AC|, |AE| ve |BD| uzunluklarının doğru sıralanışı aşağıdakilerden hangisidir?**

- A) |AC| < |AE| < |BD|    B) |AC| < |BD| < |AE|  
C) |AE| < |AC| < |BD|    D) |AE| < |BD| < |AC|  
E) |BD| < |AE| < |AC|

32. Bir duvara, yerden yükseklikleri aynı olacak şekilde 14 cm arayla beş askı yerleştirilmiştir. Ayşe, uzun kenarı 28 cm olan ve uzun kenarının uç noktalarını birleştiren birer kol askısına sahip dikdörtgen biçimindeki özdeş iki çantasını bu askılara şekildeki gibi asıyor.

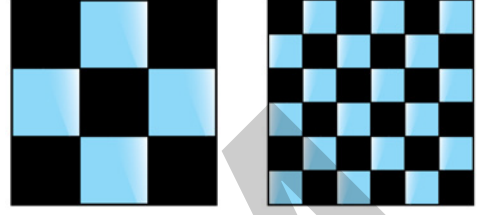


Bu durumda Ayşe, çantalarının yerden yüksekliklerini 60 ve 72 cm olarak ölçüyor.

Buna göre, çantalardan birinin kol askısının uzunluğu kaç cm'dir?

- A) 100 B) 108 C) 112 D) 120 E) 124

33. Kare biçimindeki mavi renkli bir camın ön yüzü 9 eş bölgeye, arka yüzü ise 36 eş bölgeye ayrılmış ve bu yüzlerdeki bazı bölgeler şekildeki gibi siyaha boyanmıştır.



önden görünüm

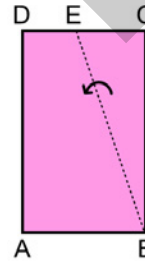
arkadan görünüm

Bu camın her iki yüzü de mavi olan bölgeleri ışığı geçirmekte, en az bir yüzü siyaha boyalı olan bölgeleri ise ışığı geçirmemektedir.

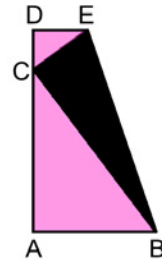
**Bu camda ışığı geçirmeyen bölgelerin alanları toplamı 35 birimkare olduğuna göre, ışığı geçiren bölgelerin alanları toplamı kaç birimkaredir?**

- A) 18 B) 16 C) 14 D) 12 E) 10

34. Ön yüzü pembe, arka yüzü siyah olan dikdörtgen biçimindeki bir kâğıdın kenar uzunlukları 3 ve 5 sayıları ile doğru orantılıdır.



Şekil 1



Şekil 2

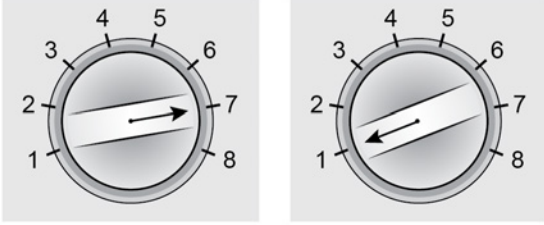
Bu kâğıt, B köşesinden geçen kesikli doğru boyunca şekildeki gibi katlandığında C köşesi AD kenarı üzerine gelmektedir.

**Buna göre, Şekil 2'de oluşan siyah üçgenin alanının Şekil 1'deki pembe dikdörtgenin alanına oranı kaçtır?**

- A)  $\frac{1}{18}$  B)  $\frac{5}{18}$  C)  $\frac{5}{9}$   
D)  $\frac{3}{8}$  E)  $\frac{5}{8}$



35. 8 programlı bir çamaşır makinesinin dairesel bir butonu etrafına sabitlenmiş 8 çizgi şeklindeki gibi 1'den 8'e kadar numaralandırılmıştır. Numaraları ardışık sayılar olan her iki çizgi arasındaki mesafe eşit olup buton döndürüldüğünde üzerindeki ok hangi çizgiyi gösteriyorsa o çizgiye ait program seçilmiş oluyor.



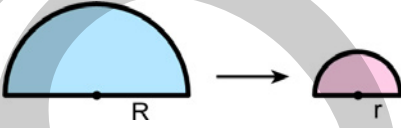
7 numaralı program seçiliyken buton saat yönünde  $150^\circ$  döndürüldüğünde 1 numaralı program seçilmiş oluyor.

**Buna göre, 1 numaralı program seçiliyken buton saat yönünde  $140^\circ$  döndürüldüğünde kaç numaralı program seçilmiş olur?**

- A) 3      B) 4      C) 5      D) 6      E) 7

36. Yarıçapı  $r$  olan bir çemberin çevresi  $\Ç = 2\pi r$ , yarıçapı  $r$  olan bir dairenin alanı ise  $A = \pi r^2$  formülü ile hesaplanır.

Şekilde;  $R$  yarıçaplı bir yarım daireyi tam olarak bir kez çevreleyen ip açılarak üç eş parçaya bölünüyor. Bu eş parçalardan biri, yarıçapı  $r$  olan yarım daireyi tam olarak bir kez çevreliyor.

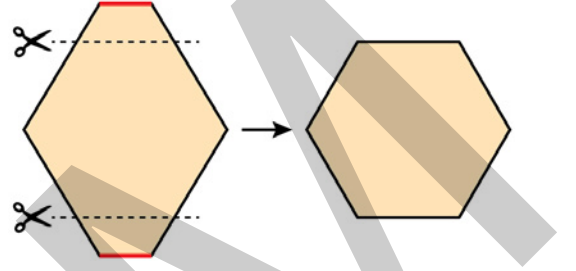


**Buna göre,  $R$  yarıçaplı yarım dairenin alanının  $r$  yarıçaplı yarım dairenin alanına oranı kaçtır?**

- A) 3      B) 4      C) 6      D) 8      E) 9

37.  $n$  kenarlı bir düzgün çokgenin bir iç açısının ölçüsü  $\frac{(n-2) \cdot 180^\circ}{n}$  olarak hesaplanır.

Kırmızı renkli kenar uzunlukları 1 birim, siyah renkli kenar uzunlukları  $x$  birim olan altıgen şeklindeki bir kâğıt parçası kırmızı renkli kenarlarına paralel iki doğru boyunca şekildeki gibi kesilerek bir kenar uzunluğu 3 birim olan bir düzgün altıgen elde ediliyor.



**Buna göre,  $x$  kaçtır?**

- A) 3,5      B) 4      C) 4,5      D) 5      E) 5,5

38. Emre, matematik dersinde yaptığı bir etkinlikte dik koordinat düzleminin  $x$ -ekseni üzerinde bir nokta işaretliyor. Sonra, işaretlediği bu noktanın  $x$  koordinatını 1 birim azaltıp  $y$  koordinatını 3 birim artırarak ikinci bir nokta, ikinci noktaya aynı işlemi uyguladığında ise  $y$ -ekseni üzerinde üçüncü bir nokta elde ediyor.

**Emre'nin, üçüncü noktaya aynı işlemi uygulayarak elde edeceği dördüncü noktanın koordinatları toplamı kaçtır?**

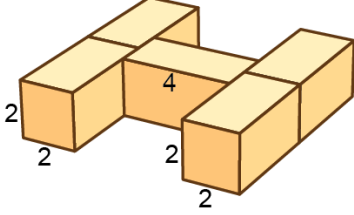
- A) 4      B) 5      C) 6      D) 7      E) 8

39. Ayrıt uzunlukları  $a$ ,  $b$  ve  $c$  olan bir dikdörtgenler prizmasının toplam yüzey alanı

$$A = 2(a \cdot b + a \cdot c + b \cdot c)$$

formülüyle hesaplanır.

Hakan, ayrıt uzunlukları 2 birim, 2 birim ve 4 birim olan dikdörtgenler prizması biçimindeki özdeş beş tahta bloğu şekildeki gibi birbirine yapıştırarak bir H harfi elde ediyor.



**Buna göre, oluşan şeklin yüzey alanı kaç birimkaredir?**

- A) 160 B) 168 C) 176 D) 184 E) 192

40. Bir dikdörtgenler prizmasının hacmi, taban alanı ile yüksekliğinin çarpımına eşittir.

Nihat, küp biçimindeki boş bir kolinin içerisine, rafta bulunan ve boyutları 2 birim, 3 birim ve 4 birim olan dikdörtgenler prizması biçimindeki çay kutularını, kolinin tabanında boşluk kalmayacak ve kutular üst üste gelmeyecek şekilde yerleştirmek istiyor.

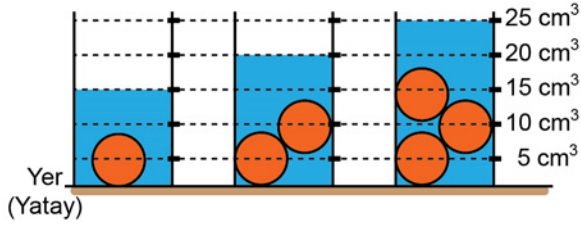
Nihat, bu kutuları yükseklikleri 2 birim olacak şekilde yerleştirirse rafta 8 kutunun kalacağını, yükseklikleri 3 birim olacak şekilde yerleştirirse rafta 2 kutunun kalacağını hesaplıyor.

**Buna göre, başlangıçta rafta bulunan kutuların hacimleri toplamı kaç birimküptür?**

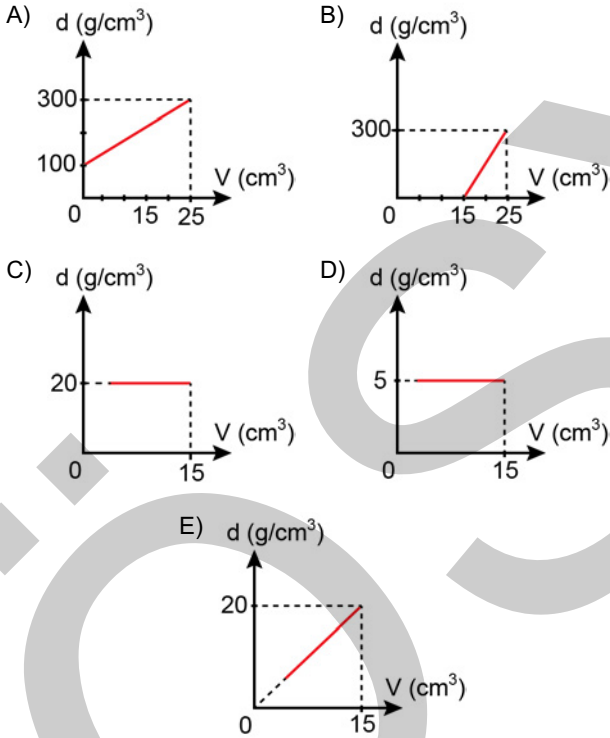
- A) 360 B) 432 C) 480 D) 576 E) 600

1. Bu testte sırasıyla, Fizik (1-7), Kimya (8-14), Biyoloji (15-20) alanlarına ait toplam 20 soru vardır.
2. Cevaplarınızı, cevap kâğıdının Fen Bilimleri Testi için ayrılan kısmına işaretleyiniz.

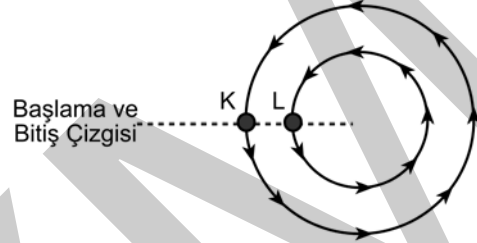
1. İçi dolu küre şeklindeki özdeş 100 g'lık altın bilyeler, başlangıçta her birinin içindeki sıvı miktarı aynı olan üç adet özdeş dereceli silindirlere içerisindeki şekildedeki gibi bırakılıyor.



Bu gözlemden elde edilen verilere göre, altın için özkütle ( $d$ ) - hacim ( $V$ ) grafiği aşağıdakilerden hangisi gibi olabilir?



2. Bir koşu parkurunda K ve L koşucuları, şekilde gösterildiği gibi farklı yarıçaplı çembersel yollar boyunca, ok yönünde aynı anda koşmaya başlamışlardır. Çembersel parkurdaki bir turu, ilk olarak K koşucusu daha sonra L koşucusu tamamlamıştır.



K ve L koşucuları parkurlarındaki bir turu tamamlayıp koşuya başladıkları noktaya ulaştıklarında K koşucusuna ait;

- I. yer değiştirme,  
II. ortalama sürat,  
III. ortalama hız

niceliklerinden hangileri L koşucusunununkinden daha büyüktür?

- A) Yalnız I      B) Yalnız II      C) Yalnız III  
D) I ve II      E) II ve III

3. Eşit kütleli katılımcıların performanslarını sergiledikleri bir yarışmada; her birinin kütlesi 50 kilogram olan 10 adet çimento torbasını 10 metre yüksekliğe en kısa sürede çıkaran katılımcı yarışı kazanmaktadır.

**Bu yarışmada, katılımcıların hangi fiziksel niceliği dikkate alınarak kazanan belirlenmektedir?**

- A) Torbalara aktardıkları toplam enerji  
B) Yaptıkları iş  
C) Kütleçekimsel potansiyel enerji  
D) Ortaya çıkarabildikleri güç  
E) Yaptıkları işin harcadıkları enerjiye oranı

4. Maddeler ısı alışverişi sonucu genleşebilmektedir.

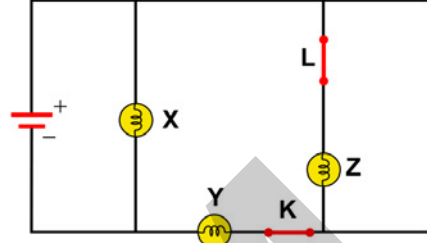
**Buna göre;**

- I. elektrik direklerinin arasına gerilmiş olan tellerin yaz aylarında sarkması,  
II. termostattaki doğrusal metal çiftinin sıcaklığının artması sonucu bükülmesi,  
III. düzgün olan tren raylarının yaz aylarında bükülmesi

**olaylarından hangileri maddelerin ısı alışverişiyle genleşmesi sonucunda olabilir?**

- A) Yalnız I      B) Yalnız III      C) I ve II  
D) II ve III      E) I, II ve III

5. Özdeş ampullerden oluşan şekildeki elektrik devresinde K ve L anahtarları kapalıdır.



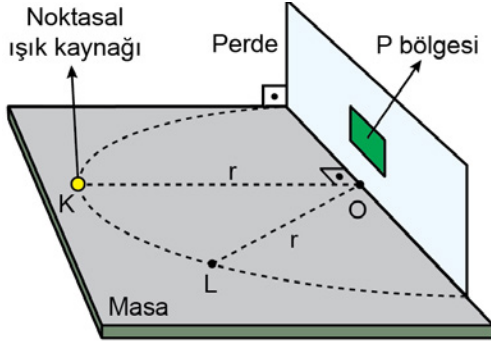
**Buna göre;**

- I. Tüm anahtarlar kapalı iken bütün ampuller ışık verir.  
II. Yalnız K anahtarı açıldığında sadece X ampulü ışık verir.  
III. Yalnız L anahtarı açıldığında sadece X ve Y ampulü ışık verir.

**yargılarından hangileri doğrudur?**

- A) Yalnız I      B) Yalnız II      C) Yalnız III  
D) I ve II      E) II ve III

6. Işığın yansıtmayan bir masanın üzerine şekildeki gibi O merkezli ve r yarıçaplı bir yarım çember çizilmiştir. Bu yarım çember şeklinin üzerine ise masaya dik olacak biçimde bir perde ve perdeden r kadar uzaklıktaki K noktasına da noktasal bir ışık kaynağı şekildeki gibi yerleştirilmiştir.



Buna göre; perdenin tam ortasında bulunan dikdörtgen şeklindeki P bölgesinden geçen ışık akısı ile ilgili;

- I. Noktasal ışık kaynağı L noktasına getirilirse azalır.
- II. Noktasal ışık kaynağı L noktasına getirilirse değişmez.
- III. Bölgenin alanı büyütülürse artar.

yargılarından hangileri doğrudur?

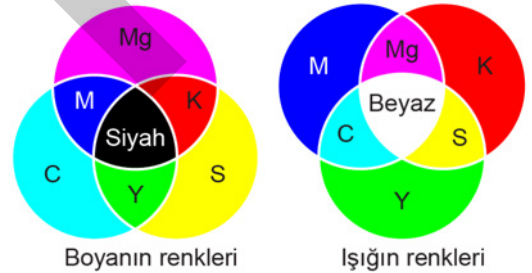
- A) Yalnız I      B) Yalnız II      C) Yalnız III  
D) I ve III      E) II ve III

7. Onur, ağaç kütüklerini kullanarak lokantasını işaret eden ve arka fonu siyah olan Şekil I'deki gibi bir tabela yapıyor. Bu tabelanın lokantanın önünden geçen araç sürücülere tarafından karanlıkta daha iyi fark edilebilmesi için kütüklerle oluşturduğu harfleri boyamaya karar veriyor.



Şekil I

Onur'un kullanabileceği değişik boya seçenekleri içerisindeki bütün boyalar; Şekil II'deki C (cyan), Mg (magenta) ve S (sarı) renk veya bunların karışımlarından oluşmaktadır. Otomobil farlarının ise Şekil II'deki K (kırmızı), Y (yeşil) ve M (mavi) renkli ışıkların farklı oranlarda birleşiminden oluşan sarı renkli bir ışık yaydığı varsayılmaktadır.



Şekil II

Verilen bilgilere göre; sarı ışık yayan otomobil farlarıyla aydınlatılan tabela, aşağıdaki renklerden hangisiyle boyanırsa diğer renklerle boyandığı durumlara göre fark edilmesi daha zor olur?

- A) Mavi      B) Sarı      C) Yeşil  
D) Kırmızı      E) Cyan

8. Aşağıda verilen element adı - element sembolü eşleştirmelerinden hangisi doğrudur?

Element Adı	Element Sembolü
A) Magnezyum	Mn
B) Cıva	C
C) Potasyum	K
D) Bakır	Ba
E) Çinko	Pb

9.  ${}_{10}^{20}\text{X}$ ,  ${}_{10}^{21}\text{Y}$  ve  ${}_{11}^{22}\text{Z}$  element atomlarıyla ilgili,

- X ve Y aynı elementin izotop atomlarıdır.
- Z element atomunun elektron ve nötron sayıları eşittir.
- Y ve Z element atomlarının nötron sayıları eşittir.

İfadelerinden hangileri doğrudur?

- A) Yalnız I      B) Yalnız II      C) I ve III  
D) II ve III      E) I, II ve III

10. Azot molekülleriyle ( $\text{N}_2$ ) ilgili,

- Azot atomları arasındaki etkileşim, güçlü etkileşim olarak sınıflandırılır.
- Azot atomları arasındaki etkileşim, elektron alışverişi sonucu oluşmuştur.
- Azot molekülleri arasındaki etkileşim, London kuvvetleri sonucu oluşmuştur.

İfadelerinden hangileri doğrudur? (7N)

- A) Yalnız II      B) Yalnız III      C) I ve II  
D) I ve III      E) II ve III

11. Periyodik sistemde aynı periyotta bulunan X ve Y elementleriyle ilgili aşağıdaki bilgiler veriliyor.

- X elementi:** Parlak görümlü olup oda sıcaklığında ısıyı ve elektriği çok iyi iletir.
- Y elementi:** Oda sıcaklığında gaz hâdedir ve hiçbir elementle tepkimeye girmez.

Bu elementlerle ilgili aşağıdaki ifadelerden hangisi doğrudur?

- A) X elementinin atom numarası Y elementininkinden büyüktür.  
B) Y elementinin atom yarıçapı X elementininkinden küçüktür.  
C) X elementinin birinci iyonlaşma enerjisi Y elementininkinden büyüktür.  
D) Y elementinin elektron alma eğilimi, X elementine göre fazladır.  
E) X elementi ametal, Y elementi metal olarak sınıflandırılır.

12. Asit çözeltilerinin K, L ve M metallerine etkisinin araştırıldığı bir deneyde aşağıdaki veriler elde edilmiştir.

Metal	HCl sulu çözeltisi	HNO <sub>3</sub> sulu çözeltisi
K	Tepkime yok	Tepkime yok
L	Gaz çıkışı	Gaz çıkışı
M	Tepkime yok	Gaz çıkışı

Buna göre, metallerin en aktif olandan en az aktif olana doğru sıralaması aşağıdakilerden hangisidir?

- A) K - L - M      B) K - M - L      C) L - K - M  
D) L - M - K      E) M - K - L

13. 25 °C'de aşağıdaki gibi üç farklı doymamış KNO<sub>3</sub> çözeltisi hazırlanıyor.

I. çözelti: 100 g saf su ve 25 g KNO<sub>3</sub> katısı

II. çözelti: 75 g saf su ve 25 g KNO<sub>3</sub> katısı

III. çözelti: 180 g saf su ve 20 g KNO<sub>3</sub> katısı

Bu çözeltilerin KNO<sub>3</sub> açısından en derişikten en seyreltik olana doğru sıralaması aşağıdakilerden hangisidir?

- A) I - II - III      B) II - I - III      C) II - III - I  
D) III - I - II      E) III - II - I

14. Tencere ve tava gibi mutfak malzemelerinin iç yüzeyleri çok yüksek erime noktasına sahip ve kimyasal etkilere karşı dirençli olan polimerlerle kaplanır.

Aşağıdakilerden hangisi bu amaçla kullanılan polimerlerden biridir?

- A) Politetrafloroeten (PTFE)  
B) Polivinil klorür (PVC)  
C) Polietilen tereftalat (PET)  
D) Polietilen (PE)  
E) Polistiren (PS)

15. Aşağıdakilerden hangisi DNA ve RNA'nın ortak özelliklerinden biridir?

- A) Her birinin yapısında tüm pirimidin baz çeşitleri yer alır.  
B) Her iki molekül de nükleotit polimeridir.  
C) Her zaman zarlı organel içerisinde bulunurlar.  
D) Zincirlerindeki pürin ve pirimidin bazlarının sayıları her zaman birbirine eşittir.  
E) Hücre döngüsünde replikasyon geçirirler.

16. Bir öğrenci izlediği bilimsel bir belgeselde, ayrıntılı mikroskopik görüntüsünün anlatıldığı bir hücreli organizmanın; prokaryot değil, ökaryot olduğu sonucuna varıyor.

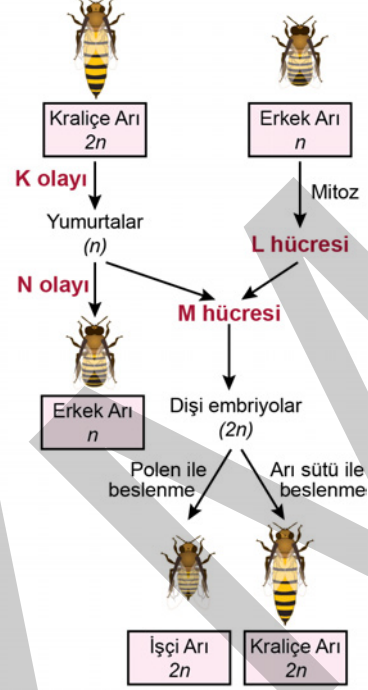
Öğrencinin, bu organizmada aşağıdakilerden hangisini gözlemesi bu doğru kaniya varmasını sağlamış olabilir?

- A) Hücre duvarına sahip olması
- B) Hücre içerisinde kofulların olması
- C) Hücrenin hareketini sağlayan bir kamçının bulunması
- D) Hücrenin ortasından basitçe ikiye bölünerek çoğalması
- E) Hücrede ribozomların bulunması

17. Mantarlarla ilgili aşağıdaki ifadelerden hangisi **yanlıştır**?

- A) Moleküler verilere göre mantarlar bitkilerden daha çok hayvanlara benzerlik göstermektedir.
- B) Bazı mantar türleri, birçok bitkinin topraktan mineral alımında işlev görür.
- C) Bazı mantar türleri ilaç üretiminde kullanılmaktadır.
- D) Bazı mantar türleri doğadaki madde döngülerinde ayrıştırıcı olarak işlev görür.
- E) Mantarlar, yoğurt üretiminde fermantasyonu gerçekleştirir.

18. Aşağıdaki şekilde bal arılarında üreme süreci gösterilmiştir.

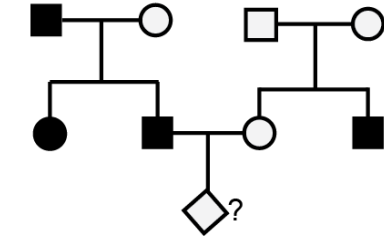


Buna göre şekilde K olayı, N olayı, L hücresi ve M hücresi ile gösterilen yerler, aşağıdakilerin hangisinde doğru olarak verilmiştir?

K olayı	N olayı	L hücresi	M hücresi
A) Mayoz	Rejenerasyon	Sperm	Zigot
B) Mitoz	Rejenerasyon	Sperm	Birincil oosit
C) Mayoz	Partenogenez	Sperm	Zigot
D) Mayoz	Partenogenez	Birincil spermatozoid	Zigot
E) Mayoz	Tomurcuklanma	Birincil spermatozoid	Birincil oosit



19. Renk körlüğü X kromozomu üzerindeki çekinik bir alel tarafından kalıtılan bir hastalıktır.



Yukarıdaki soyağacında “?” ile gösterilen bireyin renk körü olma olasılığı kaçtır?

- A) 1    B) 3/4    C) 1/2    D) 1/4    E) 1/8

20. Canlıların yedikleri besinlerle aldıkları bazı zehirli maddeler, vücutta parçalanmaz ve değişik dokularda birikir. Alt trofik basamaklarda biriken bu maddeler besin zinciri yoluyla üst basamaklara aktarılır ve üst trofik basamaklarda daha yoğun hâle gelir. Bu olaya *biyolojik birikim* denir.

Buna göre, bir göl ekosistemine karışan bir zehirli maddenin aynı besin zincirinde yer alan aşağıdaki canlılardan hangisinin dokusunda *biyolojik birikim* daha fazla olur?

- A) Fitoplankton    B) Zooplankton    C) Herbivor balık  
D) Omnivor balık    E) Balık kartalı

## SINAVDA UYULACAK KURALLAR

1. Sınav salonunda saate entegre kamera ile kayıt yapılıyor ise kamera kayıtlarının incelenmesinden sonra sınav kurallarına uymadığı tespit edilen adayların sınavları, ÖSYM Yönetim Kurulunca geçersiz sayılacaktır.
2. **Cep telefonu ile sınava girmek kesinlikle yasaktır.** Adayların sınav binasına; her türlü delici ve kesici alet, ateşli silah, çanta, cüzdan, cep telefonu, saat (kol saati ve her türlü saat), anahtarlık, her türlü araç anahtarı, kablosuz iletişim sağlayan bluetooth ve benzeri cihazlar ile; kulaklık, kolye, küpe, yüzük (**alyans hariç**), bilezik broş ve diğer takılar, her türlü plastik, cam eşya (**şeffaf numaralı gözlük hariç**), plastik ve metal içerikli eşyalar (**başörtü için kullanılan boncuklu/boncuksuz toplu iğne, metal para, anahtarlıksız basit ev anahtarı, ulaşım kartı, basit tokalı kemer, basit tel toka ve basit piercing hariç**) banka/kredi kartı vb. kartlarla her türlü elektronik/mechanik cihaz ve her türlü müsvedde kâğıt, defter, kalem, silgi, kalemıraş, kitap, ders notu, sözlük, dergi, gazete ve benzeri yayınlar, cetvel, pergel, açıölçer ve bu gibi araçlarla, yiyecek içecek (**şeffaf pet şişe içerisinde bandajı çıkarılmış su hariç**), ilaç ve diğer tüketim maddeleri ile gelmeleri yasaktır. Bu tür eşya, araç-gereçlerle sınava girmiş adaylar mutlaka Salon Tutanağı'na yazılacak, bu adayların sınavı geçersiz sayılacaktır. **Ancak, ÖSYM Başkanlığı tarafından belirlenen Engelli ve Yedek Sınav Evrakı Yönetim Merkezi (YSYM) binalarında sınava girecek olan engelli adayların sınav giriş belgelerinde yazılı olan araç-gereçler, cihazlar vb. yukarıda belirtilen yasakların kapsamı dışında değerlendirilecektir.**
3. Bu sınav için verilen cevaplama süresi **135 dakikadır (2 saat, 15 dakika)**. Sınav başladıktan sonra **ilk 100** ve **son 15** dakika içinde adayın sınavdan çıkmasına kesinlikle izin verilmeyecektir. **Bu süreler dışında, cevaplama sınav bitmeden tamamlarsanız cevap kâğıdınızı ve soru kitapçığınızı salon görevlilerine teslim ederek salonu terk edebilirsiniz. Bildirilen sürelerle aykırı davranışlardan adayın kendisi sorumludur.**
4. **Sınav salonundan ayrılan aday, her ne sebeple olursa olsun, tekrar sınav salonuna alınmayacaktır.**
5. Sınav süresince görevlilerle konuşmak, görevlilere soru sormak yasaktır. Aynı şekilde görevlilerin de adaylarla yakından ve alçak sesle konuşmaları ayrıca adayların birbirinden kalem, silgi vb. şeyleri istemeleri kesinlikle yasaktır.
6. Sınav sırasında, görevlilerin her türlü uyarısına uymak zorundasınız. Sınavınızın geçerli sayılması, her şeyden önce, sınav kurallarına uymanıza bağlıdır. Kurallara aykırı davranışta bulunanlar ve yapılacak uyarılara uymayanlar Salon Tutanağı'na yazılacak ve sınavları geçersiz sayılacaktır.
7. Sınav sırasında kopya çeken, çekmeye kalkışan, kopya veren, kopya çekilmesine yardım edenler Salon Tutanağı'na yazılacak ve bu adayların sınavları geçersiz sayılacaktır. Adayların test sorularına verdikleri cevapların dağılımları bilgi işlem yöntemleriyle incelenecek, bu incelemelerden elde edilen bulgular bireysel veya toplu olarak kopya çekildiğini gösterirse kopya eylemine katılan adayın/adayların sınavı geçersiz sayılacak ayrıca bu aday/adaylar 2 yıl boyunca ÖSYM tarafından düzenlenen hiçbir sınavı başvuru yapamayacak ve sınava giremeyecektir. Sınav görevlileri bir salondaki sınavın, kurallara uygun biçimde yapılmadığını, toplu kopya girişiminde bulunulduğunu raporlarında bildirdiği takdirde, ÖSYM bu salonda sınava giren tüm adayların sınavını geçersiz sayabilir.
8. Cevap kâğıdında doldurmanız gereken alanlar bulunmaktadır. Bu alanları doldurunuz. Cevap kâğıdınızı başkaları tarafından görülmeyecek şekilde tutmanız gerekmektedir. Cevap kâğıdına yazılacak her türlü yazıda ve yapılacak bütün işaretlemelerde kurşun kalem kullanılacaktır. Sınav süresi bittiğinde cevapların, cevap kâğıdına işaretlenmiş olması gerekir. Soru kitapçığına işaretlenen cevaplar geçerli değildir.
9. Soru kitapçığınızı alır almaz kitapçık kapağında bulunan alanları doldurunuz. Size söylendiği zaman sayfaların eksik olup olmadığını, kitapçıkta basım hatalarının bulunup bulunmadığını ve soru kitapçığının her sayfasında basılı bulunan soru kitapçık numarasının, kitapçığın ön kapağında basılı soru kitapçık numarasıyla aynı olup olmadığını kontrol ediniz. Soru kitapçığının sayfası eksik veya basımı hatalıysa değiştirilmesi için salon başkanına başvurunuz. **Size verilen soru kitapçığının numarasını cevap kâğıdınızdaki "Soru Kitapçık Numarası" alanına yazınız ve kodlayınız. Cevap kâğıdınızdaki "Soru kitapçık numaramı doğru kodladım." kutucuğunu işaretleyiniz. Soru kitapçığı üzerinde yer alan Soru Kitapçık Numarasını doğru kodladığınızı beyan eden alanı imzalayınız.**
10. Sınav sonunda soru kitapçıkları toplanacak ve ÖSYM'de incelenecektir. Soru kitapçığının sayfalarını koparmayınız. Soru kitapçığının bir sayfası bile eksik çıkarsa sınavınız geçersiz sayılacaktır.
11. Cevap kâğıdına ve soru kitapçığına yazılması ve işaretlenmesi gereken bilgilerde bir eksiklik ve/veya yanlışlık olması hâlinde sınavınızın değerlendirilmesi mümkün değildir, bu husustaki özen yükümlülüğü ve sorumluluk size aittir.
12. Soruları ve/veya bu sorulara verdiğiniz cevapları ayrı bir kâğıda yazıp bu kâğıdı dışarı çıkarmanız kesinlikle yasaktır.
13. **Sınav salonundan ayrılmadan önce, soru kitapçığınızı, cevap kâğıdınızı ve sınava giriş belgenizi salon görevlilerine eksiksiz olarak teslim ediniz. Bu konudaki sorumluluk size aittir.**
14. Sınav süresi salon görevlilerinin "SINAV BAŞLAMIŞTIR" uyarısıyla başlar, "SINAV BİTMİŞTİR" uyarısıyla sona erer.

*Bu testlerin her hakkı saklıdır. Hangi amaçla olursa olsun, testlerin tamamının veya bir kısmının Merkezimizin yazılı izni olmadan kopya edilmesi, fotoğrafının çekilmesi, herhangi bir yolla çoğaltılması, yayımlanması ya da kullanılması yasaktır. Bu yasağa uymayanlar gerekli cezai sorumluluğu ve doğacak tüm mali külfeti peşinen kabullenmiş sayılır.*

2019 TEMEL YETERLİLİK TESTİ (TYT)

YKS 1. OTURUM TEMEL YETERLİLİK TESTİ (TYT)

15-06-2019

TÜRKÇE TESTİ

1. B
2. A
3. C
4. B
5. E
6. A
7. E
8. E
9. B
10. C
11. D
12. E
13. B
14. B
15. B
16. C
17. A
18. B
19. E
20. B
21. A
22. A
23. D
24. C
25. C
26. E
27. A
28. C
29. D
30. E
31. D
32. E
33. C
34. D
35. C
36. E
37. A
38. D
39. D
40. A

SOSYAL BİLİMLER TESTİ

1. D
2. A
3. D
4. A
5. C
6. A
7. B
8. A
9. C
10. D
11. C
12. E
13. C
14. B
15. A
16. D
17. E
18. B
19. E
20. B
21. D
22. B
23. E
24. B
25. C

TEMEL MATEMATİK TESTİ

1. E
2. B
3. C
4. E
5. A
6. B
7. İPTAL
8. B
9. B
10. C
11. C
12. A
13. D
14. A
15. A
16. C
17. D
18. D
19. A
20. D
21. E
22. E
23. C
24. D
25. C
26. B
27. C
28. B
29. D
30. C
31. D
32. A
33. E
34. B
35. C
36. E
37. D
38. E
39. B
40. C

FEN BİLİMLERİ TESTİ

1. C
2. B
3. D
4. E
5. E
6. D
7. A
8. C
9. E
10. D
11. B
12. D
13. B
14. A
15. B
16. B
17. E
18. C
19. D
20. E